



آزمون ۱۴ از ۱۴

دفترچه شماره ۲



شرکت تعاونی خدمات آموزشی کارکنان  
سازمان سنجش آموزش کشور

اگر دانشگاه اصلاح شود، مملکت اصلاح می‌شود.  
امام خمینی (ره)

شماره داوطلبی:

نام خانوادگی:

نام:

صبح جمعه  
۱۴۰۱/۰۳/۲۷

آزمون آزمایشی سنجش دوازدهم  
جامع نوبت چهارم

آزمون اختصاصی  
گروه آزمایشی ادبیات و علوم انسانی (دوازدهم)

مدت پاسخگویی: ۸۰ دقیقه

تعداد سؤال: ۸۵

عنوان مواد امتحانی، تعداد، شماره سؤالات و مدت پاسخگویی

ردیف	مواد امتحانی	تعداد سؤال	از شماره	تا شماره	مدت پاسخگویی
۱	ریاضی	۲۰	۱۰۱	۱۲۰	۲۵ دقیقه
۲	اقتصاد	۱۵	۱۲۱	۱۳۵	۱۳ دقیقه
۳	علوم و فنون ادبی	۳۰	۱۳۶	۱۶۵	۳۰ دقیقه
۴	علوم اجتماعی	۲۰	۱۶۶	۱۸۵	۱۲ دقیقه

ویژه پایه دوازدهم



در صورت وجود هرگونه پرسش و ابهام با شماره ۹۰۹۹۰۷۵۳۰۷ تماس بگیرید.

[irantahsil.org](http://irantahsil.org)

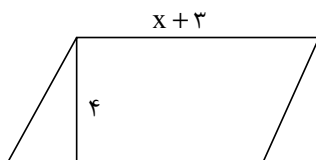
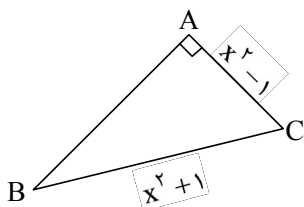
تماس از طریق تلفن ثابت



۱۰۱- حاصل جمع ریشه‌های معادله  $2(x-2)^4 - 6x^2 + 24x - 20 = 0$  کدام است؟

- ۲ (۱)      ۴ (۲)      ۶ (۳)      ۸ (۴)

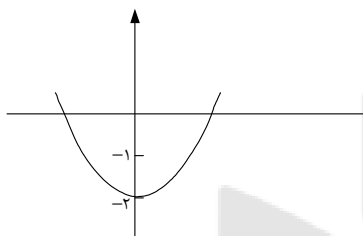
۱۰۲- در شکل زیر عدد مساحت متوازی‌الاضلاع با عدد محیط مثلث قائم‌الزاویه  $ABC$  برابر است. مساحت مثلث



$\Delta ABC$  کدام است؟

- ۱۲ (۱)  
۲۴ (۲)  
۳۶ (۳)  
۴۸ (۴)

۱۰۳- شکل زیر، نمودار تابع درجه دوم  $f(x) = x^2 + 2bx + c$  است. اختلاف ریشه‌های تابع  $f$  کدام است؟

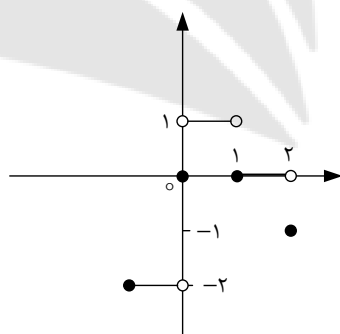


- ۱ (۱)  
۳ (۲)  
 $2\sqrt{2}$  (۳)  
 $4\sqrt{2}$  (۴)

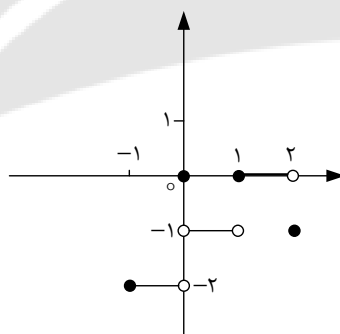
۱۰۴- اگر  $f(2x-3) = 2x^2 - 4x + 5$  باشد، مقدار  $f(5) - f(-1)$  کدام است؟

- ۱۲ (۴)      ۱۴ (۳)      ۱۶ (۲)      ۱۸ (۱)

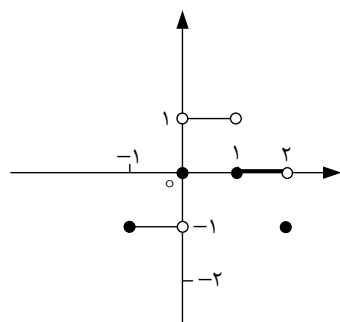
۱۰۵- اگر  $f(x) = \text{sign}(x)$  و  $(f-g)(x) = \begin{cases} [x] & x \geq 0 \\ -[x] & x < 0 \end{cases}$  باشد، نمودار تابع  $g(x)$  در بازه  $[-1, 2]$  کدام است؟



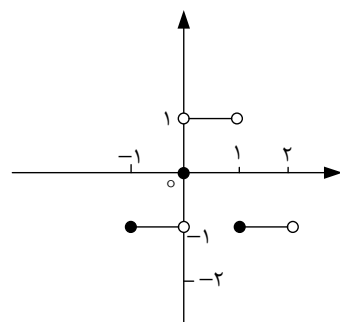
(۲)



(۱)



(۴)



(۳)

۱۰۶- حاصل جمع دو تابع  $f(x) = 3[x] - 2x + 1$  و  $g(x) = 3x - 4[x] - 3$  در بازه  $[a, b]$  یک تابع همانی است. مقدار  $a+b$  کدام است؟

- (۱) -۱ (۲) -۲ (۳) -۳ (۴) -۴

۱۰۷- مساحت ناحیه محدود بین نمودارهای دو تابع  $f(x) = -|x+1|$  و  $g(x) = |x|-5$  کدام است؟

- (۱) ۱۸ (۲)  $18\sqrt{2}$  (۳)  $12\sqrt{2}$  (۴) ۱۲

۱۰۸- اگر  $a_1 = 2$  و  $a_{n+1} = 4a_n - 1$  باشد، مجموع ارقام جمله صدم دنباله کدام است؟

- (۱) ۲۰ (۲) ۱۸ (۳) ۱۹ (۴) ۲۱

۱۰۹- در یک دنباله حسابی  $a_{25} = 10$  و  $a_{10} = 25$  است. مجموع بیست و پنج جمله اول دنباله کدام است؟

- (۱) ۲۲۵ (۲) ۳۲۵ (۳) ۵۵۰ (۴) ۶۵۰

۱۱۰- اگر حاصل عبارت  $a + \frac{27}{64}a + \dots + \frac{6561}{65536}a$  برابر  $\frac{2359}{2048}a$  باشد، مقدار  $a$  کدام است؟

- (۱)  $\frac{4}{25}$  (۲)  $\frac{8}{25}$  (۳)  $\frac{8}{5}$  (۴)  $\frac{4}{5}$

۱۱۱- در یک دنباله هندسی کاهشی، مجموع چهار جمله اول دنباله،  $\frac{10}{9}$  مجموع دو جمله اول آن است. اگر جمله اول

دنباله برابر  $\frac{9}{4}$  باشد، جمله هفتم دنباله کدام است؟

- (۱)  $\frac{1}{162}$  (۲)  $\frac{1}{243}$  (۳)  $\frac{1}{324}$  (۴)  $\frac{1}{729}$

۱۱۲- اگر  $a$  و  $b$  دو عدد حقیقی مخالف صفر باشند، حاصل عبارت  $\left(a^{-\frac{1}{2}}b^{-\frac{1}{3}}\right)^{-6} \left(a^{-\frac{1}{4}}b^{-\frac{1}{6}}\right)^2$  کدام است؟

- (۱)  $(ab)^{-3}$  (۲)  $a^2b^3$  (۳)  $(ab)^{-2}$  (۴)  $a^3b^2$

۱۱۳- اگر گزاره  $\sim p \Leftrightarrow \sim q$ ، گزاره‌ای درست باشد، ارزش کدام گزاره همواره نادرست است؟

- (۱)  $(p \wedge \sim q) \vee (q \wedge \sim p)$  (۲)  $p \Leftrightarrow q$   
(۳)  $(p \vee \sim q) \Rightarrow (q \vee \sim p)$  (۴)  $\sim(p \Leftrightarrow q)$

۱۱۴- عکس نقیض گزاره «مربع یک عدد طبیعی زوج، عددی فرد نیست» کدام است؟

- (۱) اگر  $a^2$  یک عدد طبیعی فرد نباشد، آنگاه  $a$  یک عدد طبیعی زوج نیست.  
(۲) اگر  $a^2$  یک عدد طبیعی فرد باشد، آنگاه  $a$  یک عدد طبیعی زوج نیست.  
(۳) اگر  $a^2$  یک عدد طبیعی فرد نباشد، آنگاه  $a$  یک عدد طبیعی زوج است.  
(۴) اگر  $a^2$  یک عدد طبیعی فرد باشد، آنگاه  $a$  یک عدد طبیعی زوج است.

۱۱۵- در نمودار حسابی برای برطرف کردن مشکل غیرواقعی بودن اختلاف ظاهری اندازه دایره‌ها، جذر مقادیر متغیر سوم را متناسب با کدام مورد در نظر می‌گیرند؟

۱۱۶- میانۀ داده‌های ۱۶، ۱۵، ۱۹، ۲۵، ۳۶، ۱۸، ۱۰، ۲۱، ۳۳، ۷، ۲ با میانگین داده‌های  $2a+1, 2a, 2a, 2a-1, 2a-1, 2a-2, a, a+5, a-1, a-1$  برابر است. اگر نمودار جعبه‌ای

داده‌های شامل کمیت  $a$  رسم شود، واریانس داده‌های داخل جعبه کدام است؟

(۱)  $4/4$  (۲)  $2/8$  (۳)  $3/6$  (۴)  $5/2$

۱۱۷- در یک شهر ۱۸۰۰۰۰ نفر از افراد ۱۶ ساله و بیشتر شاغل‌اند. اگر نرخ بیکاری در این شهر ۱۰ درصد باشد، تعداد افراد ۱۶ ساله و بیشتر جویای کار در این شهر چند نفر است؟

(۱) ۱۰۰۰۰ (۲) ۱۸۰۰۰ (۳) ۲۰۰۰۰ (۴) ۲۴۰۰۰

۱۱۸- جمعیت کشوری در سال ۲۰۲۲ برابر ۴۹۰۰۵۰۰۰ نفر است. اگر رشد جمعیت این کشور در ۲ سال گذشته با نرخ یک درصد در حال کاهش بوده باشد، جمعیت این کشور در سال ۲۰۲۰، چند میلیون نفر بوده است؟

(۱) ۵۰,۰۰۰,۰۰۰ (۲) ۵۰,۴۰۵,۰۰۰ (۳) ۵۱,۰۲۰,۰۰۰ (۴) ۴۹,۷۰۵,۰۰۰

۱۱۹- با ارقام ۰، ۱، ۲، ۴، ۵، هر یک از اعداد ۴ رقمی زوج (بدون تکرار ارقام) را روی یک کارت می‌نویسیم. سپس یک کارت به‌طور تصادفی از میان کارت‌ها خارج می‌کنیم. احتمال آنکه عدد روی کارت کوچک‌تر از ۳۴۰۰ باشد، کدام است؟

(۱)  $\frac{1}{4}$  (۲)  $\frac{1}{2}$  (۳)  $\frac{3}{4}$  (۴)  $\frac{1}{6}$

۱۲۰- در کیسه‌ای  $n$  مهره وجود دارد که ۴ تایی آن سفید و بقیه به رنگ سبز است. دو مهره به‌طور تصادفی از کیسه خارج می‌کنیم. اگر احتمال سفید بودن هر دو مهره برابر  $\frac{2}{5}$  باشد، احتمال آنکه دو مهره خارج شده یکی سفید و دیگری

به‌رنگ سبز باشد کدام است؟

(۱)  $\frac{2}{5}$  (۲)  $\frac{3}{5}$  (۳)  $\frac{7}{15}$  (۴)  $\frac{8}{15}$

اقتصاد

۱۲۱- در کدام گزینه، پاسخ پرسش‌های زیر به ترتیب آمده است؟

(الف) با توجه به «مسئله انتخاب»، کدام گزینه درست نیست؟

(ب) از دیدگاه اقتصاددانان ..... و ..... راهی برای گسترش توسعه اقتصادی و افزایش سرعت روند توسعه‌یافتگی است.

(ج) اگر شیب منحنی تقاضای یک کالای فرضی بسیار کم باشد، بدان معناست که .....

(۱) (الف) انسان به حکم فطرت و سرشت خود در هر انتخابی به دنبال بیشترین منافع و کمترین هزینه و ضرر است. (ب) تقسیم فرصت‌ها - ایجاد رونق اقتصادی (ج) کشش قیمتی تقاضا برای این کالا زیاد است.

(۲) (الف) گاهی انسان در تعیین فهرست کامل هزینه‌ها و میزان آن‌ها «عقلانی» رفتار نمی‌کند و منافع زیاد و بلندمدت را در نظر می‌گیرد. (ب) توزیع عادلانه ثروت و درآمد - ارتقاء سطح زندگی مردم (ج) کالای موردنظر ضروری است و عکس‌العمل مصرف‌کننده در برابر قیمت، کم است.

(۳) (الف) انسان گاهی ممکن است حتی در مورد روش انتخاب (هزینه - فایده) نیز اشتباه کند. (ب) رفع فقر - حمایت از اقشار کم درآمد (ج) کالای موردنظر تجملی است و عکس‌العمل مصرف‌کننده در برابر قیمت، زیاد است.

(۴) (الف) انسان ممکن است گاهی به‌علت عدم شناخت دقیق منافع و هزینه‌ها، دست به انتخاب نادرست بزند. (ب) افزایش ظرفیت تولیدی کشور - توزیع عادلانه ثروت و درآمد و رفع فقر (ج) کشش قیمتی تقاضا برای این کالا کم است.

- ۱۲۲- «میزان تولید کل» کشوری ظرف سه سال پایایی به ترتیب ۴۰۰۰، ۴۶۵۰ و ۵۷۰۰ میلیارد ریال برآورد شده است. با انتخاب سال اول به عنوان «سال پایه» میزان تولید کل کشور در سه سال مورد نظر برحسب قیمت‌های سال پایه به ترتیب ۴۰۰۰، ۴۵۲۰ و ۵۲۰۰ میلیارد ریال تغییر یافته است. براساس این محاسبات:
- الف) کدام اعداد مربوط به «پدیده تورم» در سال دوم و سوم در این جامعه است؟ (به ترتیب از راست به چپ)
- ب) افزایش مقدار واقعی تولید در سال دوم نسبت به سال پایه چقدر است؟
- ج) افزایش مقدار واقعی تولید در سال سوم نسبت به سال دوم چقدر است؟
- ۱ الف) (الف) ۱۳۰ - ۵۰۰ (ب) ۵۲۰ (ج) ۶۸۰ (۲ الف) ۵۰۰ - ۱۳۰ (ب) ۵۱۰ (ج) ۶۸۰
- ۳ الف) (الف) ۱۳۰ - ۵۰۰ (ب) ۵۲۰ (ج) ۸۶۰ (۴ الف) ۵۱۰ - ۱۳۰ (ب) ۵۰۰ (ج) ۸۶۰
- ۱۲۳- کدام گزینه، دربردارنده پاسخ درست و کامل پرسش‌های زیر است؟
- الف) به کدام دلیل انسان در بهره‌برداری از منابع، محدودیت دارد؟
- ب) هر یک از عبارات زیر به کدام نوع از انواع تولید اشاره دارند؟
- «منابع طبیعی با استفاده از کار و ابزارهای ساخته شده انسان به تولید می‌رسند»
- «این اقدام موجب مالکیت فرد می‌شود و بدون آن، اولین تولید انسان ممکن نبود»
- ج) عبارت «در زندگی اجتماعی شهری، یکی قصاب است و دیگری خیاط و هیچ خانواری نمی‌تواند مستقل و خودکفا از اجتماع باشد» به چه مفهومی اشاره دارد؟
- ۱ الف) منابع قابلیت مصارف متعددی دارند. (ب) حیازت - احیاء (ج) مزیت مطلق داشتن
- ۲ الف) ناشناخته بودن بسیاری از ذخایر (ب) حیازت - احیاء (ج) خودکفایی
- ۳ الف) محدود بودن دانش فنی بشر (ب) احیاء - حیازت (ج) استقلال اقتصادی
- ۴ الف) اینکه می‌توان با روش‌های مختلفی از منابع استفاده کرد. (ب) احیاء - حیازت (ج) تک محصولی بودن عامل اقتصادی
- ۱۲۴- کدام گزینه مبین پاسخ صحیح به پرسش‌های زیر است؟
- الف) به کدام دلیل، سود اعطایی به سپرده‌گذاران در بانک اسلامی ربا تلقی نمی‌شود؟
- ب) انسان‌ها و جوامع، همیشه بهترین و برترین گزینه خود را از نظر ..... انتخاب می‌کنند و با این انتخاب .....
- ج) کدام مورد از اثرات و نتایج کاهش «قدرت خرید پول» در جامعه نیست؟
- ۱ الف) به دلیل سرمایه‌گذاری مستقیم بانک‌ها در طرح‌های تولیدی و عمرانی (ب) منافع - گزینه بعدی خود را انتخاب می‌کنند. (ج) ضرر پس‌اندازکنندگان
- ۲ الف) به دلیل اینکه بانک اسلامی از حالت واسطه‌گری خارج می‌شود و به نهادی فعال در عرصه تولید و اقتصاد تبدیل می‌شود. (ب) منافع - بهترین گزینه بعدی خود را از دست می‌دهند. (ج) فزونی تقاضا بر عرضه کل جامعه
- ۳ الف) به دلیل اعطای تسهیلات مالی به اشخاص تحت یازده عقد اسلامی مجاز (ب) منافع - کمترین هزینه را پرداخت می‌کنند. (ج) کاهش رفاه خانواده‌ها
- ۴ الف) به دلیل اینکه فعالیت بانک‌های اسلامی در بخش واقعی اقتصاد است. (ب) کمترین هزینه - بیشترین منفعت را به دست می‌آورند. (ج) نابرابری عرضه و تقاضای کل در جامعه
- ۱۲۵- کدام مورد از عبارات‌های زیر، نادرست هستند؟
- الف) براساس اصل ۴۵ قانون اساسی، مصرف انفال و ثروت‌های عمومی باید بر طبق مصالح عامه باشد و تفصیل و ترتیب استفاده از هر یک را قانون معین می‌کند.
- ب) در صورتی که طلبکار قبل از زمان سررسید سفته به پول آن نیاز پیدا کند، می‌تواند آن را ظهرنویسی کند و با دریافت مبلغ سفته، طلب خود را به دیگری انتقال دهد.
- ج) شاخص H.D.I معیاری تکمیلی است که در کنار شاخص درآمد سرانه، برای سنجش افزایش مقدار تولید جامعه به کار می‌رود.
- د) وضعیتی که در آن همه عوامل تولید، ناخواسته غیرمولد نباشند را اشتغال کامل می‌گویند.
- ه) در زمان پهلوی، دولت با حضور گسترده در عرصه اقتصاد و نوسازی سازمان‌ها و تشکیلات خود، توانست گام‌های بلندی در جهت دستیابی به «توسعه پایدار» بردارد.



۱۲۶- با توجه به اطلاعات جدول زیر و با فرض اینکه تولیدکننده، خود صاحب بنگاه تولیدی و ماشین آلات است؛  
الف) سود حسابداری سالانه بنگاه چقدر است؟

ب) مبلغی که این تولیدکننده در تکمیل فرم اظهارنامه مالیاتی خود به عنوان «سود» درج می‌کند، کدام است؟

تعداد کل محصولات	۲۰۰۰ واحد
تعداد کارگران	۲۰ نفر
قیمت هر واحد محصول	۴۰۰,۰۰۰ ریال
هزینه استهلاک سالانه ماشین آلات تولیدی	۸,۰۰۰,۰۰۰ ریال
هزینه خرید مواد اولیه مورد نیاز سالانه	۲۰,۰۰۰,۰۰۰ ریال
هزینه اجاره سالانه بنگاه (در صورت اجاره دادن)	۶۰,۰۰۰,۰۰۰ ریال
هزینه اجاره سالانه ماشین آلات (در صورت اجاره دادن)	۳۰,۰۰۰,۰۰۰ ریال
حقوق ماهانه هر کارگر	۲,۰۰۰,۰۰۰ ریال

۱ الف) ۲۹۲ میلیون ریال ب) ۲۰۲ میلیون ریال ۲ الف) ۲۹۲ میلیون ریال ب) ۲۲۰ میلیون ریال

۳ الف) ۲۲۹ میلیون ریال ب) ۲۰۲ میلیون ریال ۴ الف) ۲۲۹ میلیون ریال ب) ۲۲۰ میلیون ریال

۱۲۷- با توجه به پاسخ پرسش‌های زیر، گزینه درست را انتخاب کنید؟

الف) اقتصاددانان با چه اصطلاحاتی، مسئله مقاومت‌سازی اقتصاد را پیگیری و اجرا می‌کنند؟

ب) امروزه همراه با ..... و ..... و ظهور بسیاری از تحولات دیگر، تجارت با روش‌های علمی انجام می‌گیرد و در همه کشورهای دنیا نیز رشته‌های خاصی در زمینه تجارت و بازرگانی وجود دارد.

ج) کدام یک از موارد زیر از جمله راه‌های نزدیک‌تر شدن کشورها به وضعیت استقلال و استحکام اقتصادی نیست؟

۱ الف) ثبات اقتصادی ب) گوناگون شدن کالاهای تولیدی - گسترش راه‌های مناسب حمل‌ونقل ج) توجه به اقتصاد دانش‌بنیان

۲ الف) استحکام اقتصادی ب) افزایش کیفیت تولیدات - مقررات مورد قبول بین‌المللی ج) خلق مزیت‌های اقتصادی جدید

۳ الف) ضدشکنندگی ب) گسترش راه‌های حمل‌ونقل - تجاری‌سازی فناوری‌های نوین ج) گوناگون کردن راه‌های تأمین کالاهای وارداتی

۴ الف) تاب‌آوری اقتصادی ب) گوناگون شدن کالاهای تولیدی - گسترش وسایل حمل‌ونقل ج) توجه و تخصص بر روی بخشی از زنجیره خلق ارزش

۱۲۸- عبارت‌های زیر، به ترتیب مربوط به کدام نوع از سرمایه‌گذاری‌های دولت است؟

«ساخت و تکمیل کارخانه نساجی - ساخت و تجهیز دانشگاه‌ها - ساخت و اتمام آزادراه تهران - شمال - ساخت و

تکمیل شبکه آب‌رسانی به روستاها و توابع استان سیستان و بلوچستان»

۱) سرمایه‌گذاری مولد - سرمایه‌گذاری اجتماعی - سرمایه‌گذاری زیربنایی - سرمایه‌گذاری مولد

۲) سرمایه‌گذاری مولد - سرمایه‌گذاری اجتماعی - سرمایه‌گذاری زیربنایی - سرمایه‌گذاری زیربنایی

۳) سرمایه‌گذاری زیربنایی - سرمایه‌گذاری اجتماعی - سرمایه‌گذاری مولد - سرمایه‌گذاری زیربنایی

۴) سرمایه‌گذاری زیربنایی - سرمایه‌گذاری اجتماعی - سرمایه‌گذاری زیربنایی - سرمایه‌گذاری مولد

۱۲۹- یک اداره دولتی ۲۰ کارمند دارد. درآمد ماهانه نیمی از کارمندان، ۱۸ میلیون ریال و درآمد نیم دیگر آن‌ها، ۲۵

میلیون ریال است. با توجه به جدول مالیاتی زیر، «مجموع مالیات دریافتی ماهانه» این اداره چقدر است؟

درآمدهای تا ۱۰ میلیون ریال در ماه	با نرخ ۵٪
درآمدهای تا ۱۵ میلیون ریال در ماه	با نرخ ۸٪
درآمدهای تا ۲۰ میلیون ریال در ماه	با نرخ ۱۰٪
درآمدهای تا و بیشتر از ۲۵ میلیون ریال در ماه	با نرخ ۲۰٪

۲) ۶۵ میلیون ریال

۴) ۵۸ میلیون ریال

۱) ۶۸ میلیون ریال

۳) ۵۶ میلیون ریال



در صورت وجود هرگونه پرسش و ابهام با شماره ۹۰۹۹۰۷۵۳۰۷ تماس بگیرید.

irantahsil.org

تماس از طریق تلفن ثابت



۱۳۰- در کدام گزینه، پاسخ درست دو پرسش زیر آمده است؟

الف) تأکید بر کدام یک از موارد زیر، به معنای قطع روابط تجاری و اقتصادی با دنیا و انزوا و گوشه‌گیری بین‌المللی نیست؟  
ب) در بررسی وسعت و اندازه فقر در دو کشور A و B، متوجه شدیم که درآمد سرانه در هر دو کشور برابر است.  
به کدام دلیل نرخ فقر در کشور A بیشتر است؟

۱) الف) استقلال اقتصادی ب) شاخص توزیع درآمد در این کشور عدد کوچکتری را نشان می‌دهد.

۲) الف) جایگزینی واردات ب) در این کشور فاصله دهک‌های درآمدی کم است.

۳) الف) خودکفایی ب) شاخص توزیع درآمد در این کشور عدد بزرگتری را نشان می‌دهد.

۴) الف) جایگزینی صادرات ب) در این کشور فاصله دهک‌های درآمدی زیاد است.

۱۳۱- در ارتباط با اصول اقتصادی مطرح شده در قانون اساسی جمهوری اسلامی ایران، کدام گزینه درست است؟

۱) مطابق با اصل ۵۰ قانون اساسی، فعالیت‌های اقتصادی و غیر آن که منجر به آلودگی محیط زیست و تخریب غیرقابل جبران آن شوند، ممنوع هستند مگر اینکه مجوز قانونی کسب کنند.

۲) در اصل ۴۳ قانون اساسی، بر افزایش تولیدات کشاورزی، دامی و صنعتی که نیازهای اساسی را تأمین کند و کشور را به مرحله استقلال اقتصادی برساند، تأکید شده است.

۳) در اصل ۴۴ قانون اساسی، مالکیت دو بخش از سه بخش تعیین شده در قانون، تا جایی که با اصول دیگر این فصل مطابق باشد و از محدوده قوانین اسلام خارج نشود و موجب رشد و توسعه اقتصادی کشور گردد و مایه زیان جامعه نباشد، مورد حمایت است.

۴) اصول ۵۱ تا ۵۵ قانون اساسی، شامل بحث بودجه دولت و نهادهای تصویب‌کننده و ناظر بر حسن اجرای آن است.

۱۳۲- کدام گزینه، مبین پاسخ درست پرسش‌های زیر است؟

الف) عبارت «کشورهایی که زمانی صنعتی و پیشرفته به‌شمار می‌رفتند، امروزه صنایع خود را به کشورهای دیگر منتقل می‌کنند» به کدام مفهوم اشاره دارد؟

ب) مالیات بر ارزش افزوده نوعی مالیات بر ..... است که ..... را از پرداخت مالیات معاف می‌کند.

۱) الف) کشورها می‌توانند با حمایت‌های دولت و مصرف‌کنندگان در تولید بسیاری از کالاها مزیت کسب کنند. ب) فروش چند مرحله‌ای - کالاها و خدمات واسطه‌ای

۲) الف) کشورهای موفق، پیوسته در حال انتقال مزیت‌هایی با ارزش افزوده کمتر به مزیت‌هایی با ارزش افزوده بیشتر هستند. ب) فروش چند مرحله‌ای - کالاها و خدمات واسطه‌ای

۳) الف) خلق مزیت‌های اقتصادی جدید به ویژه در عرصه علم و فناوری می‌تواند کشور را از عقب ماندگی برهاند. ب) فروش دو مرحله‌ای - کالاها و خدمات سرمایه‌ای

۴) الف) بسیاری از منابع ثروت و موفقیت کشورهای پیشرفته، ناشی از مزیت‌هایی است که تا چند قرن پیش فاقد آن‌ها بوده‌اند و اکنون دارای آن هستند. ب) فروش دو مرحله‌ای - کالاها و خدمات واسطه‌ای

۱۳۳- با توجه به مؤلفه‌های «اقتصاد مقاومتی»، پیشرفت اقتصادی برای ماندگاری، نیازمند چه چیزی است و چه چیزهایی باید به‌عنوان محور حرکت اقتصادی مورد توجه قرار گیرد؟

۱) خلق فرصت‌های جدید - تولید کالا و خدمات با ارزش افزوده بالا - افزایش قدرت صادرات

۲) خلق عرصه مناسب فرصت‌ساز - افزایش قدرت تولید - حداکثر بهره‌وری منابع موجود

۳) خلق فرصت‌های جدید - افزایش قدرت تولید - انتخاب زنجیره‌های اقتصادی دارای مزیت

۴) خلق اقتصاد دانش‌بنیان - انتخاب زنجیره اقتصادی دارای مزیت - توزیع عادلانه ثروت و درآمد

۱۳۴- کدام گزینه، پاسخ درست پرسش‌های زیر است؟

الف) قبل از شکل‌گیری خدمات نوین بانکی، نقدینگی کل مساوی مجموع ..... و ..... بود. اما با پیدایش ..... ؛ حجم نقدینگی شامل پول و شبه پول شد.

ب) در جدول عرضه و تقاضای نوعی کالا، قیمت تعادلی برابر ۱۰۰ واحد پولی و مقدار تقاضا در این سطح قیمت، برابر ۱۲۰ واحد بوده است. فروشنده در صورت عرضه «کدام مقدار»، می‌توان انتظار کاهش قیمت را داشت؟

۱) الف) اسکناس و مسکوکات در گردش - پس‌انداز خانگی - پول‌های تحریری ب) ۱۰۰ واحد

۲) الف) سپرده‌های غیردیداری - پس‌انداز خانگی - شبه پول ب) ۱۵۰ واحد



در صورت وجود هرگونه پرسش و ابهام با شماره ۹۰۹۹۰۷۵۳۰۷ تماس بگیرید.

iran tahsil.org

تماس از طریق تلفن ثابت



۱۳۵- کدام گزینه، پاسخ درست پرسش‌های زیر است؟

- الف) دولتی شدن بیش از حد اقتصاد ایران در پایان حکومت پهلوی، با ..... شکل گرفت و در سال‌های بعد از پیروزی انقلاب اسلامی نیز به دو دلیل ..... و ..... حضور آن در اقتصاد افزایش یافت.
- ب) کدام نوع از کالاها و خدمات موجب بهانه‌جویی و سلطه دشمن یا رقیب و ضعف و وابستگی کشور می‌شود و نمونه‌هایی از آن کدام است؟
- ۱) الف) نوسازی سازمان‌ها و تشکیلات دولتی - اعلام قانون ملی شدن بعضی از فعالیت‌های اقتصادی - آغاز جنگ تحمیلی ب) محصولات راهبردی - دارو و محصولات کشاورزی
- ۲) الف) افزایش درآمدهای نفتی - اعلام قانون ملی شدن بعضی از فعالیت‌های اقتصادی - آغاز جنگ تحمیلی ب) محصولات راهبردی - نفت و انرژی و گندم
- ۳) الف) ایجاد نظام نوین مالیاتی و بودجه‌بندی کشور - اعلام قانون ملی شدن بعضی از فعالیت‌های اقتصادی - محاصره اقتصادی ب) محصولات صنایع گلخانه‌ای - محصولات شیلات در کشوری که دریا ندارد
- ۴) الف) افزایش درآمدهای نفتی - اعلام قانون ملی شدن بعضی از فعالیت‌های اقتصادی - آغاز جنگ تحمیلی ب) محصولات تولیدی صنایع نوزاد - تولیدات فناوری‌های نانو

## علوم و فنون ادبی

۱۳۶- همه موارد زیر از ویژگی‌های ادبی شعر انقلاب اسلامی هستند؛ به جز:

- ۱) در شعر سنتی این دوره، تقلید از سبک عراقی و خراسانی و تمایل به آن‌ها زیاد است.
- ۲) در سال‌های نخستین، شعر این دوره از تمثیل و نمادگرایی کمتر بهره گرفته است.
- ۳) مدح و ذم و هجو در شعر این دوره بسیار کم است.
- ۴) گرایش به خیال‌بندی، شعر برخی شاعران این دوره را گاه به شعر بیدل و صائب نزدیک کرده است.

۱۳۷- کدام گزینه از دیدگاه تاریخ ادبیات و سبک‌شناسی، نادرست است؟

- ۱) کاهش واژه‌های عربی، یکی از ویژگی‌های زبانی نثر ادبیات معاصر است.
- ۲) صبای کاشانی، قانی شیرازی و مجمر اصفهانی از شاعران دوره بازگشت ادبی هستند که به سبک شاعران خراسانی و عهد سلجوقی، قصیده می‌سرودند.
- ۳) میرزاده عشقی، شاعر، روزنامه‌نگار، نمایشنامه‌نویس و نظریه‌پرداز دوره مشروطیت بود که در روزنامه‌اش «قرن بیستم» به افشاگری اعمال پلید و مقاصد شوم رجال خائن زمان پرداخت.
- ۴) ابن‌یمین، شاعر عصر سربداران است که قدرت شاعری خود را در قطعات اخلاقی آشکار کرده است.

۱۳۸- کدام گزینه، به ترتیب، نام نویسنده و نوع نثر آثار زیر است؟

«احسن التواریخ - جامع عباسی - عالم آرای عباسی - عباس‌نامه - کلیله و دمنه - تاریخ بلعمی»

- ۱) (خواندمیر - مصنوع) - (اسکندربیک ترکمان - ساده) - (شیخ بهایی - ساده) - (میرزابر خوردار فراهی - مصنوع) - (نصرالله منشی - موزون) - (ابوعلی بلعمی - آهنگین)
- ۲) (حسن‌بیک روملو - مصنوع) - (شیخ بهایی - بینابین) - (وحید قزوینی - مصنوع) - (اسکندربیک ترکمان - ساده) - (ابوالمعالی منشی - فنی) - (منصورین نوح سامانی - ساده و روان)
- ۳) (حسن‌بیک روملو - بینابین) - (شیخ بهایی - مصنوع) - (اسکندربیک ترکمان - بینابین) - (وحید قزوینی - بینابین) - (نصرالله منشی - فنی) - (ابوعلی بلعمی - مصنوع و دشوار)
- ۴) (حسن‌بیک روملو - بینابین) - (شیخ بهایی - ساده) - (اسکندربیک ترکمان - ساده) - (وحید قزوینی - مصنوع) - (نصرالله منشی - فنی) - (ابوعلی بلعمی - ساده)

۱۳۹- از دیدگاه تاریخ ادبیات و سبک‌شناسی، در متن زیر چند خط وجود دارد؟

«شاه نعمت‌الله ولی، از شاعران قرن هشتم است که در فقه و فقاہت، مقامی بلند داشت. از دیگر شاعران قرن هشتم، جامی است که کتاب بهارستان را به تقلید از بوستان سعدی نوشت و مثنوی‌هایی به پیروی از مولوی سرود که نفعات‌الانس، یکی از آن‌ها است. او از شاعران سبک هندی محسوب می‌شود.»





۱۴۰- سبک شعری ابیات زیر، به ترتیب کدام است؟

- (الف) نیست به جز عشق در این پرده کس  
(ب) تبییره زن بزد، طبل نخستین  
(ج) عقده‌ای هرگز نکردم باز از کار کسی  
(د) فرخی ز جان و دل می‌کند در این محفل

- (۱) خراسانی - خراسانی - عراقی - دوره پیش از انقلاب  
(۲) هندی - عراقی - دوره بیداری - دوره بازگشت ادبی  
(۳) عراقی - خراسانی - هندی - دوره بیداری  
(۴) عراقی - خراسانی - هندی - دوره پس از انقلاب اسلامی

۱۴۱- آفرینندگان آثار زیر، به ترتیب به چه سبکی شعر می‌سرودند؟

«خداوند نامه - گنجینه نشاط - سبک‌شناسی - مکاتیب - جمشید و خورشید - لمعات»

- (۱) عراقی - خراسانی - هندی - عراقی - خراسانی  
(۲) خراسانی - هندی - عراقی - خراسانی - عراقی  
(۳) هندی - عراقی - خراسانی - عراقی - خراسانی  
(۴) خراسانی - عراقی - خراسانی - عراقی - عراقی

۱۴۲- پدیدآورندگان آثار زیر، به ترتیب از شاعران یا نویسندگان چه قرن یا دوره‌ای هستند؟

«تاریخ گزیده- رشحات عین‌الحیات- یادگار زیربان - شاهنامه ابومنصوری - تنفس صبح - منشآت»

- (۱) قرن ۹ - قرن ۱۱ تا اواسط قرن ۱۲ - دوره فارسی باستان - قرن ۳ - پیش از انقلاب اسلامی - دوره بازگشت ادبی  
(۲) قرن ۸ - دوره سبک هندی - پیش از اسلام - قرن ۴ - پس از انقلاب اسلامی - دوره بیداری  
(۳) قرن ۸ - دوره سبک هندی - دوره فارسی میانه - قرن ۵ - دوره معاصر - دوره پیش از انقلاب اسلامی  
(۴) قرن ۷ - دوره سبک هندی - پیش از اسلام - قرن ۴ - پس از انقلاب اسلامی - دوره بیداری

۱۴۳- کدام گزینه درباره ویژگی فکری نثر ادبیات معاصر تا پیش از انقلاب اسلامی، نیست؟

- (۱) تنوع در نوشتن انواع رمان‌های: تاریخی، سیاسی، علمی، فلسفی و ...  
(۲) حضور محسوس و آشکار اساطیر یونانی، رومی، هندی و عبری در داستان‌نویسی معاصر  
(۳) تنوع و گوناگونی ساختار داستان‌ها مانند: سفرنامه، خاطره، داستان کوتاه و بلند، نثر تحقیقی و ...  
(۴) حضور آشکار و تأثیرگذار مکاتب فلسفی و ادبی قرن‌های نوزدهم و بیستم اروپا در ادبیات داستانی

۱۴۴- سراینده کدام بیت به درستی ذکر نشده است؟

- (۱) یاس بوی مهربانی می‌دهد / عطر دوران جوانی می‌دهد (سلمان هراتی)  
(۲) سلامت را نمی‌خواهند پاسخ گفت / سرها در گریبان است / کسی سر برنیارد کرد پاسخ گفتن و دیدار یاران را (مهدی اخوان ثالث)  
(۳) در این شب تیره دیوانه‌ای کاو / دل به رنگی گریزان سپرده / در دره سرد و خلوت نشسته (نیما یوشیج)  
(۴) در آن سرای که زن نیست، انس و شفقت نیست / در آن وجود که دل مرده، مرده است روان (پروین اعتصامی)

۱۴۵- کدام گزینه، جاهای خالی متن زیر را به درستی کامل می‌کند؟

«سبک ..... از اوایل قرن یازدهم تا ..... هجری قمری در تاریخ ادبیات فارسی رواج داشت. حکومت ..... به شعر مدحی و درباری و ..... بهایی نمی‌داد و با آموزه‌های سنتی ..... نیز در تضاد بود؛ از این رو، شاعران به موضوع‌هایی مثل اندرز، ..... و باریک‌اندیشی روی آوردند.»

- (۱) هندی - اواخر قرن دوازدهم - تیموریان - تعلیمی - دینی - مضمون‌های پیچیده  
(۲) عراقی - اوایل قرن دوازدهم - ازبکان - حماسی - حماسی - مضامین تازه شعری  
(۳) هندی - اواسط قرن سیزدهم - صفوی - عارفانه - عرفانی - واقع‌گرایی  
(۴) هندی - اواسط قرن دوازدهم - صفوی - عاشقانه - عرفانی - مضمون آفرینی

۱۴۶- در کدام بیت، همه آرایه‌های «حسن تعلیل، واژه‌آرایی، اغراق، تناسب، تشبیه» وجود دارد؟

- (۱) لب‌ت به خون عزیزان که می‌خوری، لعل است / تو خود بگوی که خون می‌خوری حلال است این؟  
(۲) ابر اگر عاشق نشد، چون من چرا گرید همی؟ / باد اگر شیدا نشد، چون من چرا شد بی‌قرار؟  
(۳) از دود آه ماست که ابر آشکار گشت / وز سیل اشک ماست که دریا پدید شد  
(۴) من که باشم کز چو من بی‌قدر یادآورده‌ای؟ / نامه از ننگ همین معنی به خود پیچیده است

۱۴۷- آرایه‌های «موازنه، استعاره مکنیه غیراضافی، تشبیه فشرده اسنادی، ابهام» به ترتیب در کدام مصراع‌ها آمده است؟

در صورت وجود هرگونه پرسش و ابهام با شماره ۹۰۹۹۰۷۵۳۰۷ تماس بگیرید.



۱۴۸- کدام آرایه‌ها در بیت زیر، دیده می‌شود؟

«چون گل از بی‌طاقتی بر درد بی‌دردی مخند می‌دهد بر باد سر را پسته چون خندان شود»

(۱) تشبیه گسترده - تشخیص - استعاره مصرّحه - جناس تام - متناقض‌نما

(۲) اسلوب معادله - تناقض - اشتقاق - استعاره مکنیه - کنایه

(۳) پارادوکس - حُسن تعلیل - تشبیه بلیغ - ایهام - جناس ناقص

(۴) واج آرایی - اسلوب معادله - ایهام تناسب - کنایه - مجاز

۱۴۹- در کدام گزینه، نوع مجاز با مجاز به کار رفته در بیت زیر یکسان است؟

«درخت تو گر بار دانش بگیرد به زیر آوری چرخ نیلوفری را»

(۱) به یاد روی شیرین بیت می‌گفت

(۲) چون شب‌نم اوفتاده بدم پیش آفتاب

(۳) غیرتم کشت که محبوب جهانی لیکن

(۴) امشب از آسمان دیده تو

۱۵۰- آرایه‌های نوشته شده در مقابل کدام گزینه کاملاً درست است؟

(۱) هر سو فتاده پیکر آن گل‌دازها / چون لاله‌های رُسته به هر جو کنارها (استعاره مصرّحه - تشبیه بلیغ - واج آرایی)

(۲) تو شمس عالمیانی، ز روی، پرده بیفکن / که آفتاب به رخسار خود نقاب ندارد (اسلوب معادله - کنایه - تشبیه بلیغ اضافی)

(۳) ز پیکان بلا، جسم حسینش را تماشا کن / که همچون خانه زنبور، روزن روزن است امشب (تلمیح - تشبیه فشرده - تشبیه گسترده)

(۴) تا کی به پس پرده نهان، چهره ماهت / عمری است که من منتظرم بر سر راهت (جناس ناهمسان - اضافه تشبیهی - ایهام تناسب)

۱۵۱- آرایه‌های «تضاد، مراعات نظیر، ایهام، استعاره، لفّ و نشر» در کدام گزینه به کار رفته است؟

(۱) چه باید نازش و نالش بر اقبالی و ادباری؟

(۲) ویران مکن این دیده و دل ز آتش و آب

(۳) مگذار مطرب را دمی کز چنگ بنهد چنگ را

(۴) به بوی زلف و رُخت می‌روند و می‌آیند

۱۵۲- نوع سجع به کار رفته در عبارات زیر، به ترتیب در کدام گزینه آمده است؟

(الف) هر که بر زبردستان نبخشاید به جور زبردستان گرفتار آید.

(ب) خطیبی کریه الصّوت، خود را خوش آواز پنداشتی و فریاد بیهده برداشتی.

(ج) این، دلق موسی است، مرقّع و آن، ریش فرعون، مرصّع.

(د) فلان را کرم بی‌شمار است و هنر بی‌حساب.

(ه) هنگام تنگدستی، در عیش کوش و مستی

(۱) مطرّف - متوازی - متوازی - متوازن - متوازی - مطرّف

(۲) مطرّف - متوازی - متوازی - متوازی - متوازی - مطرّف

۱۵۳- در میان ابیات زیر، به ترتیب چند بیت دارای آرایه‌های «موازنه، ترصیع، جناس» است؟

(الف) بوستانی است صدر تو ز نعیم

(ب) نظر تا کنی، عرض نقل است و می

(ج) برگ بی‌برگی بود ما را نوال

(د) کشیدم قلم بر سر نام خویش

(ه) چه کند بنده که گردن ننهد فرمان را؟

(۱) دو - سه - چهار (۲) چهار - یک - پنج

۱۵۴- وزن عروضی کدام گزینه با بقیه، متفاوت است؟

(۱) سه - دو - چهار (۲) سه - دو - سه



در صورت وجود هرگونه پرسش و ابهام با شماره ۹۰۹۹۰۷۵۳۰۷ تماس بگیرید.

irantahsil.org

تماس از طریق تلفن ثابت



## ۱۵۵- کدام بیت در وزن دولختی (دوری) سروده نشده است؟

- (۱) عیب کننم که چند در پی خوبان روی؟  
 (۲) سعدی، ز خود برون شو گر مرد راه عشقی  
 (۳) چونت ز دل برآمد، جاناکه بی رقیب  
 (۴) جان باختن آسان است اندر نظرت لیکن
- چون نرود بنده وار هر که برندش اسیر؟!  
 کان کس رسید در وی کز خود قدم برون زد  
 بر من گذار کردی تنها؟ عجب، عجب!  
 این لاشه نمی بینم شایسته قربانت

## ۱۵۶- وزن عروضی نوشته شده در مقابل کدام گزینه، درست است؟

- (۱) دی بنواخت یار من بنده غم رسیده را / داد ز خویش چاشنی جان ستم چشیده را (مفتعلن مفتعلن مفتعلن مفتعلن)  
 (۲) لب بگشا تا همه شکر خورند / ز آب دهانت رطوبت تر خورند (مفتعلن مفتعلن مفتعلن مفتعلن)  
 (۳) نه من انگشت نمایم به هواداری رویت / که تو انگشت نمایی و خلاق نگرانت (فعلاتن فعلاتن فعلاتن فعلاتن)  
 (۴) هر که نظری دارد با یار کمان ابرو / باید که سپر باشد پیش همه پیکانها (مفعول مفاعیلن مفعول مفاعیلن)

## ۱۵۷- چند مصراع از مصراع‌های زیر، می‌تواند به دو شیوه دسته‌بندی هجایی شود؟

- (الف) غمناک نباید بود از طعن حسود ای دل  
 (ب) روی تو چون نوبهار، جلوه‌گری می‌کند  
 (ج) دل می‌رود ز دستم صاحب‌دلان خدا را  
 (د) باغ سلام می‌کند، سرو قیام می‌کند  
 (ه) ای دوست، قمر خوش‌تر یا آن که قمر سازد؟

- (۱) سه مصراع (۲) دو مصراع (۳) چهار مصراع (۴) یک مصراع

## ۱۵۸- وزن عروضی بیت زیر، با وزن عروضی کدام گزینه یکسان است؟

- «ساقی، تو بده باده و مطرب تو بزن رود  
 من مستم و دل خراب، جان تشنه و ساغر آب  
 می ده پسر، بر گل، گل چون مل و مل چون گل  
 صاحب خبران دارم آنجا که تو هستی  
 بی روی تو خورشید جهان سوز مباد»  
 تا می‌خورم امروز که وقت طرب ماست»  
 برخی‌ز و بده شراب، بنشین و بزن رباب  
 خوشبوی ملی چون گل، خودروی گلی چون مل  
 یک دم زدن از حال تو غافل نیم ای دوست  
 هم بی‌تو چراغ عالم افروز مباد

## ۱۵۹- در کدام گزینه، از اختیار وزنی بیشتری استفاده شده است؟

- (۱) هر شب اندیشه دیگر کنم و رای دگر  
 (۲) ناصحم گفت که جز غم چه هنر دارد عشق  
 (۳) به که ز بهر سخن برنگشاید زبان  
 (۴) لذت عشق بستم از من پرس
- که من از دست تو فردا بروم جای دگر  
 گفتم ای خواجه عاقل، هنری بهتر از این؟  
 گر نتواند که مرد سخن به پایان برد  
 تو از آن بی‌خبری کان چه خوش است

## ۱۶۰- در بیت زیر به ترتیب، چند اختیار وزنی و چند اختیار زبانی به کار رفته است؟

- «پردۀ مطربم از دست برون خواهد بُرد  
 آه اگر زان که در این پرده نباشد بارم»  
 (۱) پنج - چهار (۲) سه - چهار (۳) چهار - دو (۴) سه - دو

## ۱۶۱- وزن عروضی کدام گزینه «بحر هزج مسدس محذوف» است؟

- (۱) مرد و زن را در طبیعت فرق نیست  
 (۲) سحاب عشق اگر یکدم نیارد  
 (۳) جهاننا عهد با من جز چنین بستی  
 (۴) دریای هستی دم به دم
- فرقشان در علم و فضل و خلق و خوست  
 بسوزان خرمین آب و گل من  
 نیاری یاد آن پیمان که کرده‌ستی  
 در چرخ و تاب و پیچ و خم

## ۱۶۲- قافیه کدام گزینه، قاعده متفاوتی دارد؟

- (۱) نخواهم به گیتی جز از راستی  
 (۲) بر سر آنم که گر ز دست برآید  
 (۳) آتش است این بانگ نای و نیست باد  
 (۴) سرانجام هم جز به بالای خویش
- که خشم خدا آورد کاستی  
 دست به کاری زخم که غصه سرآید  
 هر که این آتش ندارد نیست باد  
 نیابد کسی بهره از جای خویش

## ۱۶۳- مفهوم کدام گزینه با بقیه گزینه‌ها، متفاوت است؟

در صورت وجود هرگونه پرسش و ابهام با شماره ۰۷۵۳۰۷۹۹۰۹۰ تماس بگیرید.

- ۱۶۴- مفهوم «علم نامتناهی خدا، اختیار، تعقل، تهجد» به ترتیب در کدام ابیات آمده است؟
- (الف) آن که ز الماس عقل در معانی بسفت  
 (ب) از شما نحس می شود این قوم  
 (ج) عقل درین ره همه دانی ندید  
 (د) به خدایی سزا مر او را دان
- (۱) د - الف - ج - ب  
 (۲) ج - ب - الف - د  
 (۳) ج - الف - ب - د  
 (۴) الف - ب - ج - د
- ۱۶۵- کدام گزینه، مفهومی متضاد با بیت زیر دارد؟

«بجو از مردم صاحب کمالش»

ز من بریده و خو کرده با تنعم و ناز  
 صبا بیار نسیمی ز خاک شیرازم  
 ولی شیراز ما از اصفهان، به  
 کو همرهی که خیمه از این خاک برکنم

«به شیراز آی و فیض روح قدسی»

(۱) مرا دلی است گرفتار خطه شیراز  
 (۲) هوای منزل یار، آب زندگانی ماست  
 (۳) اگر چه زنده رود آب حیات است  
 (۴) آب و هوای پارس، عجب سفله پرور است

### علوم اجتماعی

۱۶۶- با توجه به ویژگی‌های انواع تحولات فرهنگی، کدام گزینه جدول زیر را به ترتیب (الف، ب، ج و د) کامل می‌کند؟

نوع تحول	جامعه جاهلی به جامعه نبوی	جامعه نبوی به جامعه اموی
ویژگی‌ها	الف	ج
	ب	د

- (۱) فرهنگی که گرفتار تحول می‌شود، فرهنگی باطل باشد - فرهنگی که اعتبار اجتماعی خود را از دست می‌دهد، فرهنگ حق باشد - جهت تغییرات به سوی فرهنگ حق باشد - جهت تغییرات به سوی فرهنگ باطل باشد.
- (۲) فرهنگی که اعتبار اجتماعی خود را از دست می‌دهد، فرهنگ حق باشد - فرهنگی که گرفتار تحول می‌شود، فرهنگی باطل باشد - جهت تغییرات به سوی فرهنگ حق باشد - جهت تغییرات به سوی فرهنگ باطل باشد.
- (۳) فرهنگی که گرفتار تحول می‌شود، فرهنگی باطل باشد - جهت تغییرات به سوی فرهنگ حق باشد - فرهنگی که اعتبار اجتماعی خود را از دست می‌دهد، فرهنگ حق باشد - جهت تغییرات به سوی فرهنگ باطل باشد.
- (۴) فرهنگی که اعتبار اجتماعی خود را از دست می‌دهد، فرهنگ حق باشد - جهت تغییرات به سوی فرهنگ باطل باشد - فرهنگی که گرفتار تحول می‌شود، فرهنگی باطل باشد - جهت تغییرات به سوی فرهنگ حق باشد.

۱۶۷- هریک از عبارات زیر به ترتیب با چه موضوعی ارتباط دارند؟

- جایگاه فرد در جامعه یا در یک گروه اجتماعی
- تفاوت نوع لباس پوشیدن در موقعیت‌های مختلف
- عبور از ظاهر پدیده‌های اجتماعی و راهیابی به معانی نهفته در کنش‌ها برای فهم زندگی اجتماعی

- (۱) هویت اجتماعی - پدیده اجتماعی - نگرش جامعه‌شناسی انتقادی  
 (۲) موقعیت اجتماعی - کنش اجتماعی - رویکرد جامعه‌شناسی تفسیری  
 (۳) طبقه اجتماعی - فایده نظم اجتماعی - روش جامعه‌شناسی تفسیری  
 (۴) پایگاه اجتماعی - فایده قواعد اجتماعی - هدف جامعه‌شناسی انتقادی

۱۶۸- با توجه به مباحث هویت اقتصادی به سوالات زیر پاسخ دهید:

- عامل اصلی هویت‌یابی افراد و جوامع غربی چیست؟
  - یکی از ویژگی‌های کشورهای که پاشنه آشیل ایران اسلامی را اقتصاد می‌دانند، چیست؟
  - در شیوه اقتصاد سرمایه‌داری استفاده از علوم تجربی به چه منظور است؟
- (۱) سرمایه‌داری - تمامی شیوه‌های اقتصادی غیرسرمایه‌داری را نابود شده می‌بینند - ساماندهی حسابگرانه و دقیق مؤلفه‌های اقتصادی برای تضمین حداکثر سود



۱۶۹- در ارتباط با مفهوم اقناع، به سؤال‌های زیر به ترتیب پاسخ دهید:

الف) نتیجه بیشتر بودن قدرت اقناع یک فرهنگ چیست؟

ب) چه فرهنگ‌هایی از قدرت اقناعی بیشتری برخوردارند؟

۱) افراد کنش‌ها و اعمال متناسب با آن فرهنگ را بهتر انجام می‌دهند - فرهنگ‌هایی که با توجه به شرایط، به‌درستی از روش‌های کنترل اجتماعی استفاده می‌کنند.

۲) تشویق و تنبیه به شیوه غیررسمی آن کمتر مورد احتیاج خواهد بود - فرهنگ‌هایی که ظرفیت منطقی و عقلانی بیشتری دارند و با فطرت آدمیان سازگارترند.

۳) افراد کنش‌ها و اعمال متناسب با آن فرهنگ را بهتر انجام می‌دهند - فرهنگ‌هایی که ظرفیت منطقی و عقلانی بیشتری دارند و با فطرت آدمیان سازگارترند.

۴) تشویق و تنبیه به شیوه غیررسمی آن کمتر مورد احتیاج خواهد بود - فرهنگ‌هایی که با توجه به شرایط، به‌درستی از روش‌های کنترل اجتماعی استفاده می‌کنند.

۱۷۰- پاسخ سؤالات زیر، به ترتیب در کدام گزینه به‌درستی آمده است؟

- ویژگی مشترک جهان اجتماعی مشرکانه اساطیری و جهان اجتماعی سکولار و دنیوی چیست؟
- هویت حقیقی جهان اجتماعی به چه معناست؟

• جهان‌های اجتماعی که براساس فطرت انسان شکل نگرفته‌اند و از عقاید و ارزش‌های حق برخوردار نیستند، چه حاصلی دارند؟  
۱) به آرامش نرسیدن فطرت آدمی - حالتی است که اعضای جهان اجتماعی، واقعیت‌ها و آرمان‌های خود را فراموش نکنند - انسان را به عصیان و اعتراض وامی‌دارند.

۲) رساندن انسان به خودآگاهی - حالتی که اعضای جهان اجتماعی، واقعیت‌ها و آرمان‌های خود را فراموش نکنند - تصویری که از انسان ارائه می‌دهند، سرابی از حقیقت است.

۳) ارائه تصویری سراب‌گونه از حقیقت به آدمی - حالتی که واقعیت‌ها و آرمان‌های جهان اجتماعی مطابق حق باشند - سبب خودباختگی انسان نسبت به هویت تاریخی خود می‌شود.

۴) بیگانه کردن آدمی از حقیقت خود و جهان - حالتی که واقعیت‌ها و آرمان‌های جهان اجتماعی مطابق حق باشند - مانع می‌شوند که انسان‌ها به شناخت و تفسیری درست از عالم و آدم برسند.

۱۷۱- منظور از حرکت‌های نوع اول و دوم در پروتستانتیسم به ترتیب در کدام گزینه آمده است؟

۱) حرکت‌های نوع اول در جهت اصلاح دینی پدید آمده بودند و تنها با قدرت پاپ مخالف بودند - حرکت‌های نوع دوم با حمایت قدرت‌های محلی توانستند بخشی از اروپای مسیحی را از تسلط کلیسا خارج سازند.

۲) حرکت‌های نوع اول با حمایت قدرت‌های محلی توانستند بخشی از اروپای مسیحی را از تسلط کلیسا خارج سازند - حرکت‌های نوع دوم در جهت اصلاح دینی پدید آمده بودند و تنها با قدرت پاپ مخالف بودند.

۳) حرکت‌های نوع اول با قدرت پاپ مخالفت داشتند و با جریان دنیاگرا تقابل داشتند - حرکت‌های نوع دوم رویکرد معنوی داشتند و در تقابل با جریان دنیاگرا قرار گرفتند.

۴) حرکت‌های نوع اول رویکرد معنوی داشتند و در تقابل با جریان دنیاگرا قرار گرفتند - حرکت‌های نوع دوم با قدرت پاپ مخالفت داشتند و با جریان دنیاگرا تقابل نداشتند.

۱۷۲- بیدارگران نخستین با چه چیزی آشنایی عمیق نداشتند و خطر غرب را بیشتر در چه چیزی می‌دیدند؟

۱) فرهنگ غرب و ابعاد دنیوی آن - سلطه‌گری و قدرت سیاسی و اقتصادی ۲) نقاط ضعف و قوت فرهنگ اسلامی - قدرت سیاسی و اقتصادی

۳) ابعاد امپریالیسم فرهنگی - حذف مظاهر فرهنگ اسلامی ۴) ابعاد امپریالیسم فرهنگی - امپریالیسم نظامی و سیاسی

۱۷۳- در ارتباط با سکولاریسم و رنسانس، به سؤالات زیر به ترتیب پاسخ دهید:

• دلیل فراموشی ابعاد معنوی انسان و جهان چیست؟

• سکولاریسم چیست؟

• رنسانس چندمین دوره در تاریخ فرهنگ غرب محسوب می‌شود؟

• دلیل نامگذاری این دوره به رنسانس چیست؟

۱) زیرا ابعاد معنوی به‌صورت گزینشی در خدمت اهداف و نیازهای دنیوی قرار می‌گیرد - جهان‌بینی فرهنگ غرب یا تصور آن از جهان هستی است - دوم - غرب در این زمان به فرهنگ یونان و روم بازگشت.

۲) زیرا همه ظرفیت‌های انسان متوجه آرمان‌ها و اهداف دنیوی و این‌جهانی می‌شود - جهان‌بینی فرهنگ غرب یا تصور آن از جهان هستی است - سوم - غرب در این زمان به فرهنگ یونان و روم بازگشت.

۳) زیرا همه ظرفیت‌های انسان متوجه آرمان‌ها و اهداف دنیوی و این‌جهانی می‌شود - پاسخ فرهنگ معاصر غرب به پرسش‌های هستی‌شناسانه بشر است - سوم - دور شدن از خداوندگاران متکثر که در دوره قرون وسطی، پرستیده می‌شدند.



- ۱۷۴- پیامد هر یک از عبارات زیر در کدام گزینه آمده است؟
- برخورداری انسان از اخلاق الهی و برخورداری جامعه از فرهنگ توحیدی
  - هویت مشترکانه داشتن افراد و فرهنگ جامعه
  - عدم شناخت درست انسان از خود و جهان هستی
- (۱) رفتار حکیمانه جهان تکوینی با انسان و جهان اجتماعی - زمین و آسمان از تعامل سازنده با آن‌ها سر باز می‌زنند - نمی‌تواند استعدادهایش را بپروراند و شکوفا کند.
- (۲) جهان تکوینی درهای برکات خود را به روی آن‌ها می‌گشاید - زمین و آسمان از تعامل سازنده با آن‌ها سر باز می‌زنند - عدم شناخت اغلال و سلاسل در جهان اجتماعی
- (۳) رفتار حکیمانه جهان تکوینی با انسان و جهان اجتماعی - زمین و زمان ظرفیت‌های الهی و آسمانی خود را از آن‌ها پنهان می‌کند - عدم شناخت اغلال و سلاسل در جهان اجتماعی
- (۴) جهان تکوینی درهای برکات خود را به روی آن‌ها می‌گشاید - زمین و زمان، ظرفیت‌های الهی و آسمانی خود را از آن‌ها پنهان می‌کند - نمی‌تواند استعدادهایش را بپروراند و شکوفا کند.
- ۱۷۵- هر یک از عبارات زیر به کدام نوع فرهنگ اشاره دارد؟
- دیگر اقوام، جوامع و گروه‌ها را به ضعف و ناتوانی می‌کشاند.
  - عقاید و ارزش‌های آن، عام و جهان‌شمول است.
  - انسان نمی‌تواند آینده‌اش را بر اساس اراده و عمل خود بسازد و محکوم به سرنوشتی محتوم است.
  - انگیزه شناخت متقابل جوامع و فرهنگ‌ها را فراهم می‌آورد.
- (۱) فرهنگ صهیونیسم - فرهنگ سلطه - فرهنگ جبرگرا - پذیرش تفاوت‌ها در فرهنگ جهانی
- (۲) فرهنگ استکبار - فرهنگ جهانی - فرهنگ جبرگرا - پذیرش تفاوت‌ها در فرهنگ جهانی
- (۳) فرهنگ سرمایه‌داری - فرهنگ مشترک بشر - فرهنگ جهانی - فرهنگ استکبار
- (۴) فرهنگ سلطه - فرهنگ جهانی - فرهنگ استکبار - فرهنگ جبرگرا
- ۱۷۶- پاسخ هر یک از سؤالات زیر در کدام گزینه آمده است؟
- کارکرد اصلی نهادهای اجتماعی در جهان اجتماعی چیست؟
  - در استعمار نو، کشورهای استعمارگر چگونه کنترل بازار و سیاست کشورهای دیگر را در اختیار می‌گیرند؟
  - منظور از مکتب مارکسیسم چیست؟
- (۱) شیوه قابل قبول تأمین بعضی از نیازهای افراد را معین می‌سازد و متقابلاً شیوه‌های غیرقابل قبول را طرد می‌کند - با استفاده از شرایط مساعدی که در دوره استعمار ایجاد کرده‌اند، از مجریان بومی و داخلی کشورهای مستعمره، برای رسیدن به اهداف استعماری خود استفاده می‌کنند - تفکری که عبور از سرمایه‌داری را در ایجاد جوامع کمونیستی و در ادامه آن، جوامع سوسیالیستی می‌داند.
- (۲) مجموعه‌ای از عقاید، ارزش‌ها، هنجارها و نمادها است که اجزا و لایه‌های جهان اجتماعی را در ارتباط با هم شکل می‌دهد - با اتکا به قدرت اقتصادی خود، با استفاده از نهادها و سازمان‌های اقتصادی و سیاسی بین‌المللی و از طریق دولت‌های دست‌نشانده - تفکری برگرفته از اندیشه‌های مارکس است که انقلاب طبقاتی (انقلاب کارگران علیه سرمایه‌داران) را تنها راه‌هایی از چنگال نظام سرمایه‌داری و مشکلات آن می‌داند.
- (۳) شیوه قابل قبول تأمین بعضی از نیازهای افراد را معین می‌سازد و متقابلاً شیوه‌های غیرقابل قبول را طرد می‌کند - با اتکا به قدرت اقتصادی خود، با استفاده از نهادها و سازمان‌های اقتصادی و سیاسی بین‌المللی و از طریق دولت‌های دست‌نشانده - تفکری برگرفته از اندیشه‌های مارکس است که انقلاب طبقاتی (انقلاب کارگران علیه سرمایه‌داران) را تنها راه‌هایی از چنگال نظام سرمایه‌داری و مشکلات آن می‌داند.
- (۴) مجموعه‌ای از عقاید، ارزش‌ها، هنجارها و نمادها است که اجزا و لایه‌های جهان اجتماعی را در ارتباط با هم شکل می‌دهد - با استفاده از شرایط مساعدی که در دوره استعمار ایجاد کرده‌اند، از مجریان بومی و داخلی کشورهای مستعمره، برای رسیدن به اهداف استعماری خود استفاده می‌کنند - تفکری که عبور از سرمایه‌داری را در ایجاد جوامع کمونیستی و در ادامه آن، جوامع سوسیالیستی می‌داند.
- ۱۷۷- هر یک از عبارات زیر به ترتیب به چه مفهومی اشاره دارند؟
- مباح دانستن همه امور برای انسان
  - حاکمیت اکثریت مردم بر اساس خواست و میل خودشان
  - نوعی نظام سیاسی که ادعا می‌کند با خواست اکثریت مردم شکل می‌گیرد و هیچ حقیقتی را مستقل از خواست مردم به رسمیت نمی‌شناسد.

۱۷۸- در نظر فارابی، مدینه جاهله از چه علومی بی بهره است و در این نوع جامعه، چه علمی می تواند وجود داشته باشد و ویژگی علمی که نمی تواند در این جامعه وجود داشته باشد، چیست؟

- ۱) علوم عقلی - علم عمران - علمی که از ارزش ها، آرمان ها و حقیقت زندگی سخن بگوید.
- ۲) علوم عقلی - علم ابزاری - علمی که از ارزش ها، آرمان ها و حقیقت زندگی سخن بگوید.
- ۳) علوم وحیانی - علم ابزاری - علمی که شناخت علمی را به شناخت حسی و تجربی محدود کند.
- ۴) علوم وحیانی - علم عمران - علمی که شناخت علمی را به شناخت حسی و تجربی محدود کند.

۱۷۹- هر یک از عبارات زیر، به ترتیب با چه موضوعی مرتبط است؟

- شکل گیری علوم اجتماعی
- کمک کردن به انسان در استفاده از طبیعت
- وسیله غلبه انسان بر محدودیت های طبیعی
- آگاهی دادن به انسان درباره فرصت ها و محدودیت های فناوری
- ۱) مطالعات علمی اثرپذیری کنش ها از اجتماعات - علوم اجتماعی - علوم طبیعی - علوم طبیعی
- ۲) چگونگی اثرگذاری کنش بر اجتماعات - علوم اجتماعی - علوم طبیعی - علوم اجتماعی
- ۳) چگونگی اثرگذاری اجتماعات بر کنش - علوم طبیعی - علوم اجتماعی - علوم طبیعی
- ۴) مطالعات علمی اجتماعات انسانی - علوم طبیعی - علوم طبیعی - علوم اجتماعی

۱۸۰- در ارتباط با رویکرد انتقادی، به سوالات زیر پاسخ دهید:

- رویکرد انتقادی به دنبال نگه داشتن چه ظرفیتی در علوم اجتماعی است؟
- این ظرفیت را در کجا و کدام فضا جست و جو می کند؟
- این رویکرد، از علوم اجتماعی انتظار دارد چگونه به انسان کمک کند؟
- ۱) ظرفیت افشاگری و رهایی بخشی - نقد روابط و مناسبات میان افراد، گروه ها و فرهنگ ها - با تشخیص و افشای سلطه در مناسبات انسانی
- ۲) داوری علمی درباره ارزش ها و هنجارها - توجه به رویکرد تفسیری در داوری علمی ارزش ها - با تشخیص و افشای سلطه در مناسبات انسانی
- ۳) داوری علمی درباره ارزش ها و هنجارها - نقد روابط و مناسبات میان افراد، گروه ها و فرهنگ ها - پذیرش اینکه هر نظریه ای درون فرهنگ و تاریخ خود تولید می شود.
- ۴) ظرفیت افشاگری و رهایی بخشی - توجه به رویکرد تفسیری در داوری علمی ارزش ها - پذیرش اینکه هر نظریه ای درون فرهنگ و تاریخ خود تولید می شود.

۱۸۱- کدام عبارت مربوط به جامعه شناسان انتقادی است، از دست رفتن امکان مقایسه و داوری فرهنگ ها و ارزش ها، حاصل چیست و حکومت اقلیت بر اساس فضیلت چه نام دارد؟

- ۱) جوامع غربی دچار بحران اراده و بحران معنا هستند- درگیری علوم اجتماعی در مطالعات پایان ناپذیر و تمام ناشدنی - جمهوری
- ۲) دست شستن از آرمان داوری ارزش های اجتماعی، بن بست زندگی انسان است - محدود نشدن فرهنگ های مختلف به مرزهای خودشان - مونارشی
- ۳) هیچ راه حل علمی برای حل مشکلات و برون رفت از بحران ها در جوامع غربی وجود ندارد - تعدد و تنوع فرهنگ ها و جوامع معاصر و قدیمی - الیگارشی
- ۴) یافتن راهی برای داوری علمی درباره ارزش های اجتماعی، به ویژه در عرصه قدرت، ضروری است - اجبار علوم اجتماعی به بررسی فرهنگ ها فقط از منظر مردمی که فرهنگ را پذیرفته اند - آریستوکراسی

۱۸۲- کدام گزینه، پیامدهای عبارات زیر را به ترتیب، درست ذکر کرده است؟

- مقاومت انقلاب اسلامی ایران در دهه نخست پیدایش آن
- به رسمیت شناختن تفاوت های قومی، نژادی، زبانی و فقهی توسط فقه اسلامی
- تعامل عالمان مسلمان با علوم اجتماعی مدرن
- ۱) بی معنا کردن شکل گیری نظم نوین جهانی بر مدار یک قطب واحد - تبدیل این تفاوت ها به فرصتی برای شکل گیری امت اسلامی - تولید دانش متناسب با معنای علم در جهان اسلام
- ۲) تثبیت موقعیت جهان اسلام به عنوان یک قطب فرهنگی - ایجاد اشتراکات متعدد به رغم تفاوت های موجود - ارائه راه حل برای برون رفت از بحران هایی مانند بحران آگاهی و بحران معنا
- ۳) تثبیت موقعیت جهان اسلام به عنوان یک قطب فرهنگی - تبدیل این تفاوت ها به فرصتی برای شکل گیری امت اسلامی -

۱۸۳- کدام عبارت از پیامدهای گریز و رویگردانی از سکولاریسم در جوامع غربی محسوب نمی‌شود و یکی از مهم‌ترین انتقادهای

جامعه‌شناسان انتقادی به جامعه‌شناسان تفسیری در کدام گزینه مطرح شده است؟

(۱) انواع بازسازی‌شدهٔ ادیان و عرفان‌های شرقی و سرخپوستی مانند گذشته دیگر مجال خودنمایی نداشتند - کم‌توجهی به ساختارهای اجتماعی و تأثیر این ساختارها بر زندگی افراد

(۲) مهاجران ساکن کشورهای غربی را که اغلب مرعوب فرهنگ مدرن شده بودند، کامل به هویت غربی منتقل کرد - عدم توجه به توانایی و خلاقیت افراد در ساختن جهان اجتماعی

(۳) برخی از نخبگان جهان غرب را به جست‌وجوی سنت‌های قدسی و دینی واداشت - عدم توجه به توانایی و خلاقیت افراد در ساختن جهان اجتماعی

(۴) بازار معنویت‌های کاذب و دروغین را رونق بخشید - کم‌توجهی به ساختارهای اجتماعی و تأثیر این ساختارها بر زندگی افراد

۱۸۴- رویکردهای مختلف در جامعه‌شناسی، بر اساس چه عواملی شکل گرفته است و ارتباط میان پدیده‌های اجتماعی چه نام دارد و کدام عبارت مربوط به حالتی است که جامعه را همچون طبیعت تصور کنیم؟

(۱) نوع ارتباط انسان و جامعه - نظام اجتماعی - جامعه برخلاف طبیعت، محصول و مخلوق کنش‌های انسان‌ها است و بود و نبود آن وابسته به انسان است.

(۲) دوری و نزدیکی به علوم طبیعی - ساختار اجتماعی - نظم اجتماعی بیرون و مستقل از ماست و فقط باید خود را با آن تطبیق دهیم و سازگار کنیم.

(۳) رابطه نظم اجتماعی با ساختار طبیعت - ساختار اجتماعی - تلاش ما برای شناخت قوانین طبیعت، این قوانین را تغییر نمی‌دهد؛ ما فقط می‌توانیم این قوانین را بشناسیم.

(۴) روش مطالعهٔ پدیده‌های اجتماعی - نظام اجتماعی - ما فقط می‌توانیم از دانش‌های ابزاری خود استفاده کنیم و جامعه را بشناسیم، اما نمی‌توانیم تغییر بنیادین در جامعه به‌وجود آوریم.

۱۸۵- اشکال بیدارگران نخستین در شناخت فرهنگ غرب چه بود و طرفداران قشربندی اجتماعی به چه دلیل، نابرابری اجتماعی را عادلانه می‌دانند؟

(۱) سلطهٔ سیاسی و اقتصادی غرب را در خطر می‌دیدند - زیرا می‌پندارند که نابرابری‌های اجتماعی نتیجهٔ تفاوت‌ها یا نابرابری‌های طبیعی هستند.

(۲) از فرهنگ غرب شناخت عمیقی نداشتند - زیرا معتقدند که نابرابری‌های اجتماعی همیشه نتیجهٔ نابرابری‌های طبیعی نیستند.

(۳) سلطهٔ سیاسی و اقتصادی غرب را در خطر می‌دیدند - زیرا معتقدند که نابرابری‌های اجتماعی همیشه نتیجهٔ نابرابری‌های طبیعی نیستند.

(۴) از فرهنگ غرب شناخت عمیقی نداشتند - زیرا می‌پندارند که نابرابری‌های اجتماعی نتیجهٔ تفاوت‌ها یا نابرابری‌های طبیعی هستند.