

کد کنترل

503

F



503F

آزمون (نیمه‌متمرکز) ورود به دوره‌های دکتری - سال ۱۴۰۲

دفترچه شماره (۱)

صبح پنج‌شنبه

۱۴۰۱/۱۲/۱۱



«اگر دانشگاه اصلاح شود مملکت اصلاح می‌شود.»
امام خمینی (ره)

جمهوری اسلامی ایران
وزارت علوم، تحقیقات و فناوری
سازمان سنجش آموزش کشور

مهندسی نقشه‌برداری - فتوگرامتری (کد ۲۳۱۸)

زمان پاسخ‌گویی: ۱۳۵ دقیقه

تعداد سؤال: ۴۵

عنوان مواد امتحانی، تعداد و شماره سؤالات

ردیف	مواد امتحانی	تعداد سؤال	از شماره	تا شماره
۱	مجموعه دروس تخصصی: - فتوگرامتری - ژئودزی - فتوگرامتری رقومی - تئوری تقریب و مدل‌سازی رقومی زمین	۴۵	۱	۴۵

این آزمون نمره منفی دارد.

استفاده از ماشین حساب مجاز نیست.

حق چاپ، تکثیر و انتشار سؤالات به هر روش (الکترونیکی و...) پس از برگزاری آزمون، برای تمامی اشخاص حقیقی و حقوقی تنها با مجوز این سازمان مجاز می‌باشد و با متخلفین برابر مقررات رفتار می‌شود.



تماس بگیرید. شماره ۹۰۹۹۰۷۵۳۰۷
irantahsil.org

در صورت وجود هرگونه پرسش و ابهام با شماره ۹۰۹۹۰۷۵۳۰۷ تماس بگیرید.
تماس از طریق تلفن ثابت

* داوطلب گرامی، عدم درج مشخصات و امضا در مندرجات جدول زیر، به منزله عدم حضور شما در جلسه آزمون است.

اینجانب با شماره داوطلبی با آگاهی کامل، یکسان بودن شماره سندلی خود با شماره داوطلبی مندرج در بالای کارت ورود به جلسه، بالای پاسخنامه و دفترچه سؤالات، نوع و کد کنترل درج شده بر روی جلد دفترچه سؤالات و پایین پاسخنامه ام را تأیید می نمایم.

امضا:

مجموعه دروس تخصصی (فتوگرامتری - ژئودزی - فتوگرامتری رقومی - تئوری تقریب و مدل سازی رقومی زمین):

۱- اگر در تصحیح خطاهای سیستماتیک موجود در نوارهای یک بلوک فتوگرامتری از چند جمله ای های زیر استفاده شود، کدام مورد، نا درست است؟

$$\begin{cases} \Delta X = a_0 + a_1x + a_2x^2 - y(b_1 + 2b_2x) + z(c_1 + 2c_2x) \\ \Delta Y = b_0 + b_1x + b_2x^2 + y(a_1 + 2a_2x) - z(d_1 + 2d_2x) \\ \Delta Z = c_0 + c_1x + c_2x^2 + y(a_1 + 2a_2x) + z(d_1 + 2d_2x) \end{cases}$$

(۱) به ازای هر نقطه در سطح نوار ۳ معادله می توان نوشت.

(۲) در تعدیل سه بُعدی نوار ۱۱ پارامتر مجهول وجود دارد.

(۳) تعدیل مسطحاتی و ارتفاعی نوار را می توان به طور جداگانه انجام داد.

(۴) حداقل برای تعدیل هر نوار به ۳ نقطه کنترل ارتفاعی و ۲ نقطه کنترل مسطحاتی نیاز است.

۲- طول ضلع یک ساختمان در عکس هوایی قائم با مقیاس متوسط $\frac{1}{4000}$ با دقت ۱۴۰ میکرون اندازه گیری شده است. نقشه پلان قابل ترسیم از این ساختمان در بهترین حالت حدوداً چه مقیاسی خواهد داشت؟ (حدّ خطای مجاز ترسیم نقشه، $0/2$ میلی متر در مقیاس نقشه است).

$$(۲) \frac{1}{2000}$$

$$(۱) \frac{1}{3000}$$

$$(۴) \frac{1}{2500}$$

$$(۳) \frac{1}{1500}$$

۳- در خصوص مقیاس عکس هوایی قائم، هنگام فراهم بودن اطلاعات مورد نیاز کدام عبارت همواره درست است؟

(۱) مقیاس برای هر نقطه در عکس قابل محاسبه است.

(۲) مقیاس در کل سطح عکس ثابت و قابل محاسبه است.

(۳) مقیاس صرفاً برای هر خط میان دو نقطه عکس قابل ملاحظه است.

(۴) مقیاس فقط در طراحی پرواز قابل تعریف بوده و قابل محاسبه از عکس نیست.

۴- در کدام حالت زیر تعریف Datum در فضای سه بُعدی شیئی بدون نقصان است؟

(۲) دو امتداد متقاطع

(۱) دو امتداد موازی و معلوم

(۴) یک امتداد و یک نقطه سه بُعدی معلوم روی آن

(۳) دو امتداد متنافر و معلوم

۵- مجموع درجه آزادی محاسبات در هر سه عملیات بیان شده در موارد الف، ب و ج، کدام است؟

الف - توجیه مطلق: تعداد نقاط کنترل کامل برابر ۸، نقاط کنترل مسطحاتی برابر ۴ و نقاط کنترل ارتفاعی برابر ۵

ب - ترفیع فضایی: تعداد نقاط کنترل کامل برابر ۸، نقاط کنترل مسطحاتی برابر ۶ و نقاط کنترل ارتفاعی برابر ۴

ج - تبدیل DLT: تعداد نقاط کنترل کامل برابر ۱۳، نقاط کنترل مسطحاتی برابر ۵ و نقاط کنترل ارتفاعی برابر ۷

۸۲ (۱) ۸۱ (۲)

۶۷ (۳) ۶۶ (۴)

۶- معادله اساسی ماتریس بنیادی (F) برای توصیف شرط هم‌صفحه‌ای در یک جفت تصویر به ترتیب زیر است که در

آن (x_1, y_1) بیانگر مختصات پیکسلی نقاط گرهی در تصویر چپ، (x_2, y_2) بیانگر مختصات پیکسلی نقاط

گره‌ی در تصویر راست و f_{11} تا f_{33} بیانگر عناصر ماتریس بنیادی هستند. در این صورت حداقل تعداد نقاط گرهی

لازم برای برآورد خطی عناصر ماتریس بنیادی جفت تصویر چه تعداد است؟

$$x_1 x_2 f_{11} + x_2 y_1 f_{12} + x_2 f_{13} + y_2 x_1 f_{21} + y_2 y_1 f_{22} + y_2 f_{23} + x_1 f_{31} + y_1 f_{32} + f_{33} = 0$$

۹ (۱) ۸ (۲)

۷ (۳) ۵ (۴)

۷- تبدیل افاین دوبعدی در فتوگرامتری دارای ۶ ضریب مجهول بوده و برای برآورد آنها نیاز به حداقل ۳ نقطه کنترل است.

میان این ۳ نقطه باید چه قید هندسی وجود داشته باشد تا امکان برآورد ضرایب مجهول این تبدیل وجود داشته باشد؟

(۱) سه نقطه نباید بر روی یک خط واقع باشند.

(۲) سه نقطه باید تشکیل یک مثلث قائم‌الزاویه بدهند.

(۳) سه نقطه باید تشکیل یک مثلث متساوی‌الاضلاع بدهند.

(۴) هیچ محدودیت هندسی برای ۳ نقطه در تبدیل افاین وجود ندارد و در هر شرایطی هندسی که باشند امکان

برآورد ضرایب تبدیل وجود دارد.

۸- نمای یک ساختمان در یک تصویر هوایی رقومی قائم ثبت شده است. اگر طول نما (AB) در روی تصویر برابر ۱۰۰

پیکسل و مختصات پیکسلی نقطه بام (A) برابر (۳۲۰۰, ۱۸۰۰) پیکسل و مختصات پیکسلی نقطه اصلی در

تصویر برابر (۲۸۰۰, ۱۵۰۰) پیکسل باشد، آنگاه ارتفاع ساختمان از نقطه پای ساختمان (B) چند متر است؟

(ارتفاع پرواز هواپیما از پای ساختمان برابر ۲۰۰۰ متر است.)

۴۰ (۱)

۳۰ (۲)

۲۰ (۳)

۱۰ (۴)

۹- در یک تصویر رقومی قائم، طول باند فرودگاه برابر ۳۲۰۰ پیکسل اندازه‌گیری شده است. اگر همین طول بر روی

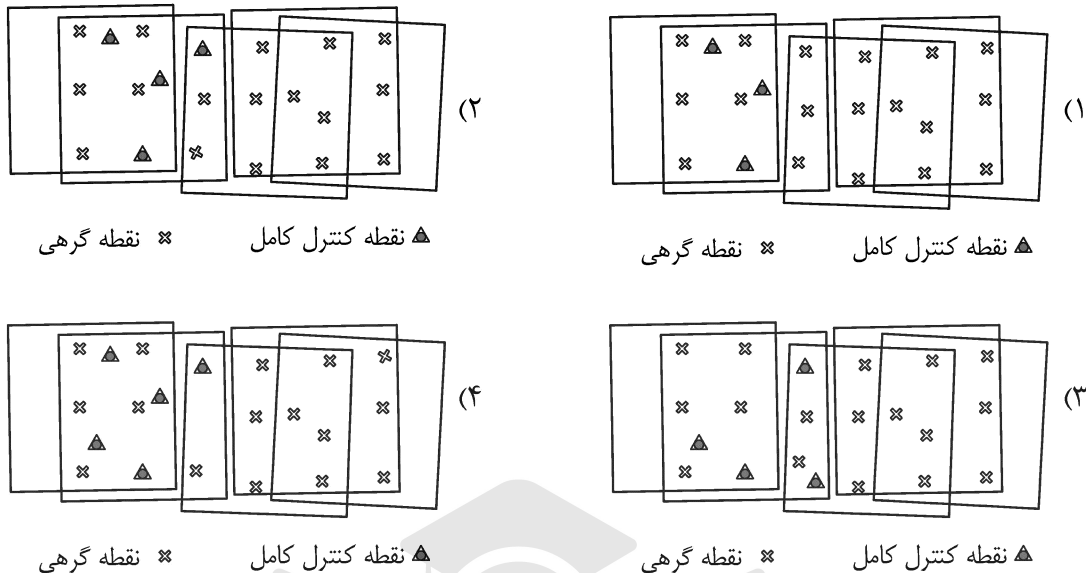
نقشه‌ای با مقیاس $\frac{1}{8000}$ برابر ۱۰۰ میلی‌متر باشد، آنگاه مقیاس تصویر قائم در محدوده باند فرودگاه کدام است؟

(اندازه هر پیکسل تصویر ۲۰ میکرون است.)

۱ (۱) $\frac{1}{2500}$ (۲) $\frac{1}{250}$

۳ (۳) $\frac{1}{12500}$ (۴) $\frac{1}{1500}$

۱۰- در کدام مجموعه از تصاویر با نقاط گرهی و کنترل مشخص شده، امکان انجام مثلث‌بندی هوایی به دلیل نقص پیکربندی (Configuration Defect) وجود ندارد؟



۱۱- اگر برای تعیین ارتفاع ژئوئید از دومین مسئله مقدار مرزی تئوری پتانسیل موسوم به مسئله نیومن استفاده کنیم، کدام نوع از مشاهدات میدان ثقل استفاده می‌شود؟

- (۱) مؤلفه‌های زاویه انحراف قائم (Deflection of vertical components)
- (۲) نوسان جاذبه (gravity disturbance)
- (۳) گرادیان جاذبه (gravity gradient)
- (۴) انامولی جاذبه (gravity anomaly)

۱۲- بخار آب قابل بارش (Precipitable water vapor) را می‌توان از اندازه‌گیری‌های GNSS در یک شبکه ژئودتیک محاسبه کرد، به شرطی که

- (۱) اولاً شبکه GNSS به شبکه جهانی IGS متصل شده و ثانیاً تأخیر تروپوسفری با دقت کافی مدل‌سازی شده باشد.
- (۲) اولاً تأخیر تروپوسفری مایل، تبدیل به تأخیر تروپوسفری سراسری (Zenith wet Delay) شده باشد، ثانیاً پارامترهای مداری با دقت میلی‌متر داده شده باشند.
- (۳) اولاً مشاهدات GNSS در فواصل زمانی حداقل ۳۰ ثانیه اندازه‌گیری شده و ثانیاً پارامترهای مداری دقیق ماهواره‌ها داده شده باشند.
- (۴) اولاً مختصات دقیق نقاط شبکه و مختصات ماهواره‌ها معلوم باشد و ثانیاً همه خطاهای سیستماتیک غیر از خطای تأخیر تروپوسفری تصحیح شده باشند.

۱۳- در بسط به هارمونیک‌های کروی تابع پتانسیل میدان گرانش زمین کدام جمله، درست است؟

- (۱) دامنه مؤلفه‌ها از طول موج آنها مستقل است.
- (۲) دامنه مؤلفه‌های با درجه و مرتبه پایین‌تر، بیشتر است.
- (۳) ضرایب توابع هارمونیک کروی به صورت متناوب تغییر می‌کنند.
- (۴) با افزایش فاصله از سطح زمین، دامنه مؤلفه‌های با فرکانس بالاتر، افزایش می‌یابد.

- ۱۴- استفاده از روش تبدیل فوریه برای محاسبه انتگرال استوکس چه مزیتی دارد؟
- (۱) اثر تقریبات کروی که برای به دست آوردن انتگرال استوکس استفاده می‌شوند را کم می‌کند.
 - (۲) قدرت تفکیک (resolution) ژئوئید محاسبه شده را افزایش می‌دهد.
 - (۳) حجم محاسبات را کاهش و سرعت آن را افزایش می‌دهد.
 - (۴) محتوای فرکانس ژئوئید محاسبه شده را افزایش می‌دهد.
- ۱۵- کدام مورد، درست است؟
- (۱) آنامولی بوگه در پشته‌های میان اقیانوسی، منفی است.
 - (۲) آنامولی هوای آزاد در دراز گودان اقیانوسی، مثبت است.
 - (۳) مناطق چین خورده در نواحی برخورد قاره‌ای، آنامولی بوگه مثبت دارند.
 - (۴) مناطقی که در حال برگشت پس از عصر یخبندان هستند، آنامولی هوای آزاد مثبت دارند.
- ۱۶- در گرانی‌سنجی هوایی برای محاسبه شتاب‌های کینماتیک که ناشی از میدان ثقل زمین نیستند، کدام مورد، درست است؟
- (۱) از مدل‌های ژئوپتانسیل با درجه و مرتبه بالا استفاده می‌شود.
 - (۲) از ارتفاع پرواز هواپیما حاصل از جی‌پی‌اس دوبار مشتق گرفته می‌شود.
 - (۳) از دستگاه‌های IMU که فقط شتاب‌های کینماتیک را اندازه می‌گیرند، استفاده می‌شود.
 - (۴) چون در عمل از هواپیماهای بزرگ و پایدار استفاده می‌شود، نیازی به این تصحیح نیست.
- ۱۷- واحد سنجش گرادبان دوم پتانسیل ثقل در جهت‌های مختلف کدام است؟
- (۱) E بیانگر اتوش (Eötvös) معادل $10^{-9} s^{-2}$
 - (۲) E بیانگر اتوش (Eötvös) معادل $10^{-6} ms^{-2}$
 - (۳) g.p.u. به معنای (Geopotential Unit) معادل $1 gal.m$
 - (۴) g.p.u. به معنای (Geopotential Unit) معادل $1 kgal.m$
- ۱۸- فرض کنید می‌خواهیم شتاب گرانی مطلق زمین را در یک نقطه با آونگ ساده اندازه‌گیری کنیم. اگر انحراف معیار طول آونگ $\pm 0.1 mm$ و دوره تناوب آونگ نیز یک ثانیه باشد، انحراف معیار شتاب گرانی به دست آمده چند میلی‌گال است؟ (از خطای زمان‌سنجی صرف نظر می‌کنیم).
- (۱) $\pm(2\pi)$
 - (۲) $\pm\left(\frac{1}{(2\pi)^2}\right)$
 - (۳) $\pm(2\pi)^2$
 - (۴) $\pm\left(\frac{1}{2\pi}\right)$
- ۱۹- کدام یک از موارد زیر در مورد «میدان ثقل زمین»، درست است؟
- (۱) شتاب ثقل از نقطه‌ای به نقطه دیگر بر روی یک سطح هم پتانسیل متغیر می‌باشد.
 - (۲) با افزایش ارتفاع به اندازه ۳۲ کیلومتر از سطح زمین، ارتفاع ژئوئید یک درصد کاهش می‌یابد.
 - (۳) تفاوت شتاب جاذبی نرمال بین قطب و استوا بیش از مقدار متوسط شتاب ثقل نرمال می‌باشد.
 - (۴) اختلاف بین زاویه انحراف قائم مشاهداتی روی سطح زمین در نقاط مختلف فرض ایزوستالی را در مورد تعادل پوسته زمین بر روی گوشته زمین نقض می‌کند.

۲۰- برای رفتارسنجی یک گسل فعال به طول تقریبی ۵۰ کیلومتر در مدت ۱۰ سال با نرخ لغزش جانبی در حد ۲ میلی متر در سال، کدام مورد درست است؟

- ۱) تلفیق شبکه دائم GNSS و اندازه گیری های شبکه کلاسیک (طول و زاویه) ضروری است.
- ۲) تلفیق روش های تداخل سنجی راداری (INSAR) و شبکه دائم GNSS بهترین جواب را می دهد.
- ۳) با اندازه گیری های طول زاویه در یک شبکه ژئودزی کلاسیک می توان با کمترین هزینه به نتیجه رسید.
- ۴) روش تداخل سنجی راداری (INSAR)، دقت کافی برای آشکارسازی تغییرات ۲ میلی متر در سال را ندارد هر چند که با شبکه دائم GNSS تلفیق شود.

۲۱- در فتوگرامتری هوایی با تصویربرداری مایل اگر چهار دوربین مایل با زاویه تیلت ۳۰ درجه نسبت به دوربین قائم داشته باشیم و فاصله کانونی دوربین قائم ۳۵ میلی متر باشد، فاصله کانونی دوربین های مایل حدوداً چقدر باید باشد تا حدتفکیک مکانی تصاویر قائم و مایل روی زمین سازگار باشند؟

- ۱) ۳۰ (۲) ۳۵ (۳) ۴۰ (۴) ۴۵

۲۲- کدام فناوری زیر در بازسازی سه بعدی در گروه غیرفعال (Passive) قرار می گیرد؟

- ۱) Phase - shifted fringe projection (۲) Caded structured light
 ۳) Photometric stereo (۴) Shape from polarization

۲۳- مقدار معیار الگوریتم استخراج گوشه FAST (Features from Accelerated Segment Test) برای پیکسل مرکزی در پنجره زیر کدام است؟ (شعاع همسایگی مطابق شکل برابر ۳ پیکسل فرض شود).

55	58	74	99	184	171	172	۳ (۱)
11	10	10	18	172	172	174	۱۳ (۲)
11	11	11	18	170	174	173	۱۶ (۳)
31	29	30	47	172	173	170	۴۷ (۴)
165	163	162	164	172	175	168	
174	174	174	171	170	171	171	
170	173	173	168	172	172	171	

۲۴- در کدام مورد با ابعاد مشخص شده برای پنجره تناظریابی و مدل های معرفی شده برای تصحیح هندسی و رادیومتریکی، میزان درجه آزادی در تناظریابی کمترین مربعات (LSM) بیشتر است؟

- ۱) ابعاد پنجره تناظریابی برابر ۱۱×۱۱ پیکسل، تبدیل پروژکتیو به عنوان مدل هندسی و یک سهمی به عنوان مدل رادیومتریکی
- ۲) ابعاد پنجره تناظریابی برابر ۱۲×۱۲ پیکسل، تبدیل افاین به عنوان مدل هندسی و یک تبدیل خطی به عنوان مدل رادیومتریکی
- ۳) ابعاد پنجره تناظریابی برابر ۱۳×۱۳ پیکسل، یک چندجمله ای درجه ۳ به عنوان مدل هندسی و یک سهمی به عنوان مدل رادیومتریکی
- ۴) ابعاد پنجره تناظریابی برابر ۱۲×۱۲ پیکسل، یک چندجمله ای درجه ۲ به عنوان مدل هندسی و یک تبدیل خطی به عنوان مدل رادیومتریکی

۲۵- در تناظریابی ناحیه مبنا کدام معیار مقایسه، پایداری بیشتری در برابر تغییرات روشنایی و کنتراست دارد؟
 $U = \{u_i : i = 1, \dots, n\}$ و $V = \{v_i : i = 1, \dots, n\}$ بیانگر بردار درجات خاکستری در جفت پنجره مورد مقایسه و \bar{u} و \bar{v} برابر میانگین آنها و σ_u و σ_v بیانگر انحراف معیار آنها است.

$$SSD(U, V) = \sum_{i=1}^n (u_i - v_i)^2 \quad (1)$$

$$ZSSD(U, V) = \sum_{i=1}^n [(u_i - \bar{u}) - (v_i - \bar{v})]^2 \quad (2)$$

$$MSD(U, V) = \text{Median}_{i=1}^n \left(\frac{u_i - v_i}{\sigma_{u_i} + \sigma_{v_i}} \right)^2 \quad (3)$$

$$NSSD(U, V) = \sum_{i=1}^n \left(\frac{u_i - \bar{u}}{\sigma_u} - \frac{v_i - \bar{v}}{\sigma_v} \right)^2 \quad (4)$$

۲۶- در الگوریتم SIFT (Scale Invariant Feature Transform) از نسبت مقادیر ویژه ماتریس Hessian برای چه منظوری استفاده می‌شود؟ (راهنمایی: ماتریس Hessian در موقعیت هر پیکسل با استفاده از مشتق تابع تفاضل گوسی به ترتیب، زیر محاسبه می‌شود.)

$$H = \begin{bmatrix} D_{xx} & D_{xy} \\ D_{yx} & D_{yy} \end{bmatrix}$$

(۲) تخصیص جهت

(۱) بهبود دقت موقعیت به اندازه زیرپیکسل

(۴) حذف عوارض با کنتراست پایین

(۳) حذف عوارض واقع بر روی لبه‌ها

۲۷- یکی از روش‌های پرکاربرد به منظور حذف اشتباهات در تناظریابی عارضه‌مبنا، استفاده از قید هندسی اپی‌پولار بر مبنای ماتریس بنیادی (Fundamental matrix) است. مزایای اصلی ماتریسی بنیادی برای توصیف قید هندسی اپی‌پولار در یک جفت تصویر در مقایسه با معادله اساسی شرط هم‌صفحه‌ای در فتوگرامتری کدام است؟

(۱) خطی بودن معادله اساسی ماتریسی بنیادی و عدم نیاز به پارامترهای توجیه داخلی

(۲) محاسبات کندتر و ایجاد هم‌زمان خط اپی‌پولار در تصویر چپ و راست

(۳) نیاز به تعداد نقاط گرهی کمتر در محاسبات و استفاده از مختصات پیکسلی

(۴) امکان محاسبات هم‌زمان در چند تصویر و تعداد مجهولات کمتر

۲۸- در صورتی که مقادیر ماتریس خودهمبستگی (Auto-correlation matrix) برای موقعیت یک پیکسل در یک تصویر رقومی به ترتیب زیر باشد، آنگاه مقدار معیار استخراج گوشه Harris برای این پیکسل کدام است؟ (مقدار ضریب ثابت α در الگوریتم Harris برابر 0.04 فرض شود.)

$$A = \begin{bmatrix} 28 & -12 \\ -12 & 17 \end{bmatrix}$$

(۱) ۲۵۱

(۲) ۵۳۰

(۳) ۵۳۹

(۴) ۲۰۱۱

۲۹- هدف ایجاد توصیفگر SIFT (Scale Invariant Feature Transform) برای یک پنجره مربعی با ابعاد $D \times D$ پیکسل است. در صورتی که ابعاد هر سلول مربعی در این پنجره برای ایجاد ساختار شبکه‌ای برابر $d \times d$ پیکسل در نظر گرفته شده و h نیز برابر تعداد مؤلفه‌های هیستوگرام جهت در هر سلول باشد، آنگاه در کدام حالت طول بردار توصیفگر SIFT بیشتر است؟


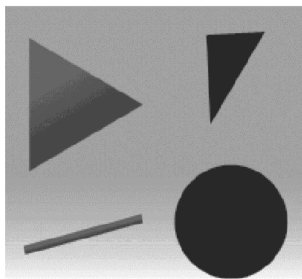
$$D = 36 \quad d = 9 \quad h = 9 \quad (2)$$

$$D = 50 \quad d = 10 \quad h = 5 \quad (1)$$


$$D = 44 \quad d = 11 \quad h = 8 \quad (4)$$

$$D = 40 \quad d = 8 \quad h = 5 \quad (3)$$

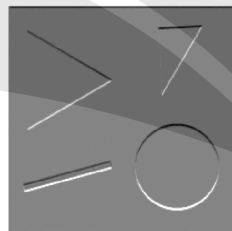
۳۰- برای محاسبه معیار استخراج گوشه Hessian، مشتقات جزئی مرتبه دوم تصویر در جهت‌های x ، y و xy مورد نیاز است. در صورتی که تصویر ورودی به ترتیب زیر باشد، آنگاه کدام مورد مشتق مرتبه دوم تصویر در جهت x را نشان می‌دهد؟




(۲)



(۱)



(۴)



(۳)

۳۱- مهم‌ترین چالش تولید ارتوفتوموزائیک حقیقی (True OrthoImageMosaic) از تصاویر هوایی قائم کدام است؟
(۱) نگاشت بافت از تصاویر چندگانه

(۲) تولید مدل رقومی سطح با حد تفکیک تصویر ارتوفتوموزائیک

(۳) تولید مدل رقومی سطح با سطح نويز پایین در لبه‌های عوارض

(۴) نگاشت دوگانه Double Mapping در نواحی پنهان تصویری

۳۲- کدام راهکار در تهیه DTM OrthoImageMosaic با کیفیت بالا از یک منطقه شهری بیشترین تأثیر را دارد؟

(۲) افزایش پوشش‌های تصویری

(۱) به‌کارگیری عدسی با میدان دید باریک

(۴) انجام تصویربرداری مایل

(۳) انجام تصویربرداری کراس

۳۳- در کدام حالت زیر رابطه $x^T \cdot F \cdot y = 0$ برقرار نیست؟ (x و y مختصات نقاط متناظر عکسی و F ماتریس بنیادی مربوط به یک زوج عکس استرئو می باشد. خطاهای اتفاقی مختصات عکسی را صفر فرض کنید.)

(۱) مختصات عکسی توجیه داخلی شده باشند.

(۲) مختصات عکسی توجیه داخلی نشده باشند.

(۳) مختصات عکسی دارای اعوجاجات کشیدگی و عدم تعامد باشند.

(۴) مختصات عکسی دارای اعوجاجات شعاعی یا خروج از مرکز باشند.

۳۴- یک فایل رستری DTM_۱ به ابعاد ۱۰۰۰×۱۰۰۰ پیکسل با فاصله نمونه برداری a را با حذف یک پیکسل درمیان به ابعاد ۵۰۰×۵۰۰ به نام DTM_۲ کاهش می دهیم. اکنون DTM_۲ را با روش درونیابی خطی به ابعاد اولیه بازسازی می کنیم و DTM_۳ حاصل می شود. کدام عبارت درست است؟

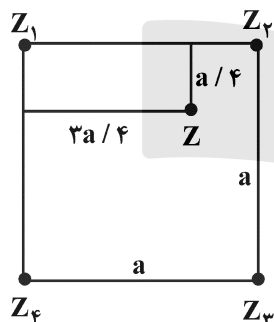
(۱) اگر فرکانس Nyquist در DTM_۱ کمتر از $\frac{1}{(4a)}$ باشد، آنگاه همه جا $DTM_3 = DTM_1$ خواهد بود.

(۲) اگر فرکانس Nyquist در DTM_۱ کمتر از $\frac{1}{(2a)}$ باشد، آنگاه همه جا $DTM_3 = DTM_1$ خواهد بود.

(۳) اگر فرکانس Nyquist در DTM_۱ کمتر از $\frac{1}{(4a)}$ باشد، آنگاه در محدوده میانی $DTM_3 = DTM_1$ خواهد بود.

(۴) اگر فرکانس Nyquist در DTM_۱ کمتر از $\frac{1}{(2a)}$ باشد، آنگاه در محدوده میانی $DTM_3 = DTM_1$ خواهد بود.

۳۵- ارتفاع نقطه میانی Z پس از درونیابی Bilinear از روی ارتفاعات Z_۱ تا Z_۴ کدام است؟



$$Z = (3Z_1 + 9Z_2 + 3Z_3 + Z_4) / 16 \quad (1)$$

$$Z = (Z_1 + Z_2 / 3 + Z_3 + 3Z_4) / 4 \quad (2)$$

$$Z = (3Z_1 + Z_2 + 3Z_3 + 9Z_4) / 16 \quad (3)$$

$$Z = (Z_1 + 3Z_2 + Z_3 + Z_4 / 3) / 4 \quad (4)$$

۳۶- چرا خطای ارتفاعی ابر نقطه حاصل از لیزر اسکنر هوایی در نواحی کوهستانی بیشتر است؟

(۱) به واسطه تأثیر نواحی پنهان و پر کردن گپها با درونیابی

(۲) به علت زاویه نامناسب برخورد پرتو لیزر با سطح زمین در مناطق کوهستانی

(۳) به علت خطای چندمسیری در ارسال و دریافت پرتو لیزر در مناطق کوهستانی

(۴) به واسطه تأثیر بیشتر خطای مسطحانی ابر نقطه در مناطق پرشیب بر خطای ارتفاعی

۳۷- برای تهیه DTM از عوارض سه بعدی نقشه به مقیاس ۱:۱۰۰۰ با منحنی میزان نیم متر، محدوده ابعاد پیکسل DTM طبق استاندارد باید چند سانتی متر باشد تا اطلاعات ارتفاعی از دست نرود؟

(۱) ۲۰ تا ۴۰

(۲) ۲۰ تا ۵۰

(۳) ۲۵ تا ۵۰

(۴) ۲۰ تا ۲۵

۳۸- تفاوت مدل رقومی زمین DTM یا Digital Terrain Model با داده رقومی زمین DTD یا Digital Terrain Data کدام است؟

- ۱) DTM همان DTD بعد از تعیین همسایگی نقاط مجاور می باشد.
 - ۲) DTD گسسته سازی نقاط حاصل از DTM بعد از درونیابی سطح می باشد.
 - ۳) DTM نسخه بهینه سازی شده DTD است، به طوری که صحت و حد تفکیک آن بالاتر است.
 - ۴) DTM یک رویه ۲/۵ بعدی از سطح زمین است اما DTD مجموعه نقاط گسسته ارتفاعی می باشد.
- ۳۹- گیرنده یک ایستگاه دائم جی پی اس در یک تاریخ مشخص با گیرنده دقیق تری جایگزین شده است. تأثیر این تغییر در تخمین بردار سرعت ایستگاه چگونه باید لحاظ شود؟

- ۱) استفاده از مختصات حاصل از گیرنده جدید
 - ۲) برآورد صحیح ماتریس وزن مختصات ایستگاه قبل و بعد از تغییر گیرنده
 - ۳) افزایش نرخ نمونه برداری مختصات ایستگاه به هنگام برآورد بردار سرعت
 - ۴) استفاده از مشاهدات خام به جای مختصات ایستگاه قبل و بعد از تغییر گیرنده
- ۴۰- در مورد سیگنال پاسخ ضربه واحد یک سیستم خطی زمان ناوردا (LTI)، کدام مورد درست است؟
- ۱) هم آمیخت (Convolution) آن با سیگنال ورودی به سیستم، سیگنال خروجی سیستم است.
 - ۲) مقدار آن در ازای سیگنال ضربه واحد به عنوان ورودی سیستم، برابر واحد خواهد بود.
 - ۳) مقدار سیگنال ورودی به سیستم را در زمان های مختلف محاسبه می کند.
 - ۴) سیگنال ضربه واحد را به هنگام ورود به سیستم تنظیم می کند.
- ۴۱- در یک مسئله سرشکنی، ماتریس وزن مشاهدات به صورت زیر ارائه شده است. کدام مورد درست است؟

$$\begin{pmatrix} 0.25 & 0 \\ 0 & 1 \end{pmatrix}$$

- ۱) مجموع انحراف معیار دو مشاهده، برابر با ۵ است.
 - ۲) انحراف معیار مشاهده دوم، نصف انحراف معیار مشاهده اول است.
 - ۳) انحراف معیار مشاهده دوم، یک چهارم انحراف معیار مشاهده اول است.
 - ۴) انحراف معیار مشاهده اول، یک چهارم انحراف معیار مشاهده دوم است.
- ۴۲- در دستگاه معادلات خطی $Ax = b$ فرض کنید $E(x) = 0$ و ماتریس های واریانس - کوواریانس C_x و C_b داده شده اند. برآورد کمترین مربعات x با کدام رابطه انجام می شود؟

$$\hat{x} = (A^T C_b A + A C_x A^T)^{-1} A^T C_b^{-1} b \quad (2) \qquad \hat{x} = (A^T C_b A + C_x)^{-1} A^T C_b b \quad (1)$$

$$\hat{x} = (A^T C_b^{-1} A + C_x^{-1})^{-1} A^T C_b^{-1} b \quad (4) \qquad \hat{x} = (A^T C_b^{-1} A)^{-1} A^T C_b^{-1} b \quad (3)$$

۴۳- در حل یک دستگاه معادلات فرا معین خطی $Ax = b$ با روش کمترین مربعات، کدام حالت باعث تکینگی ماتریس ضرایب نرمال است؟

- ۱) وجود حداقل یک سطر در ماتریس A با مقادیر صفر
- ۲) وابستگی خطی حداقل دو سطر از سطرهای ماتریس A
- ۳) وابستگی خطی حداقل دو ستون از ستون های ماتریس A
- ۴) وجود حداقل یک ستون با مقادیر غیر صفر در ماتریس A که عناصر آن همگی با هم برابرند.

۴۴- اگر مقادیر منفرد ماتریس A در دستگاه معادلات خطی $Ax = b$ نزدیک به صفر باشد، کدام مورد درست است؟

(۱) مسئله تکینه (singular) است.

(۲) مسئله بدوضع (ill-posed) است.

(۳) بعضی از جواب‌ها نزدیک به صفر خواهند بود.

(۴) می‌توان جواب نااریب مسئله را با روش تکرار به‌دست آورد.

۴۵- پس از حل دستگاه معادلات فرامعین (Overdetermined) زیر، کدام مورد برای تخمین ماتریس واریانس - کوواریانس

باقیمانده‌های برآورد شده است؟ ($y = AX + r$) که در آن: A ماتریس ضرایب، X بردار مجهولات، r بردار

باقیمانده‌ها و y بردار مشاهدات است.)

$$\underline{C}_r = \underline{C}_y \quad (۲)$$

$$C_{\hat{r}} = C_y - A(A^T C_y^{-1} A)^{-1} A^T \quad (۱)$$

$$C_{\hat{r}} = C_y + A C_y A^T \quad (۴)$$

$$C_r = C_y + A(A^T C_y A)^{-1} A^T \quad (۳)$$



